





QUIZ ESTADÍSTICA

GRADO PRIMERO

1. En la biblioteca del colegio se lleva un seguimiento de los libros prestados a estudiantes, observa la tabla:

Estudiante	Cantidad de libros	Total
Martín		
Lucía		
Ana		
Manolo		



=10

- Completa el total del pictograma anterior.
- ¿Cuántos libros prestó Lucía en total?
A. 30 libros B. 35 libros C. 70 libros
- ¿Qué estudiante prestó más libros?
A. Lucía B. Manolo C. Martín
- ¿Cuál es la diferencia de libros entre Manolo y Martín?
A. 10 libros B. 5 libros C. 15 libros
- ¿Qué estudiante prestó menos libros?
A. Ana B. Martín C. Manolo



8. ¿Cuántas entradas vendieron el día martes?
A. 3 B. 15 C. 10
9. ¿Cuántas entradas menos se vendieron el día jueves que el miércoles?
A. 20 B. 15 C. 10
10. ¿Cuántas entradas se vendieron en total en todos los días?
A. 70 B. 75 C. 80
11. ¿Para qué sirven los pictogramas?
A. Utiliza imágenes o símbolos para representar una cantidad específica.
B. Utiliza barras para representar los datos.

