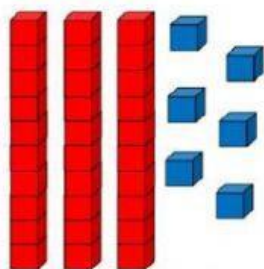


GUÍA DE MATEMÁTICA

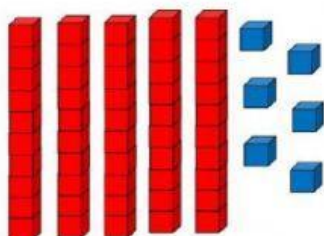
NUMERACIÓN 0 al 110- PIE

Psicopedagoga Elena Illanes


1.-Une la representación con el número que corresponde:




27



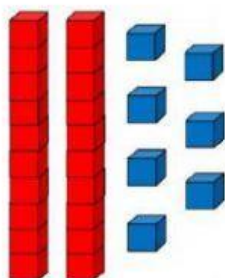
81



36



56



79

2.-Escucha y selecciona el número correcto:



96	100	69
77	67	87
48	84	58
66	99	62
36	63	26

3.-Escribe el antecesor y sucesor de los siguientes números.

	99	
	68	
	56	
	89	
	102	
	100	