




NOME: _____

Educando com Amor

A CADEIA ALIMENTAR

Arraste cada ser vivo para sua ordem na cadeia alimentar.



Complete:

- a) A grama e a cenoura são considerados:
- b) o gafanhoto e o coelho são considerados:
- c) A serpente e a raposa são considerados:
- d) Nessas cadeias alimentares, quem é considerado o consumidor terciário?
- e) Quem fecha o elo da segunda cadeia alimentar são fungos. Dentro da cadeia, eles são considerados os:

Pró Dani Freitas

LIVEWORKSHEETS

