

IGUALDAD Y DESIGUALDAD

1. COMPLETA

a. La cantidad de ● es **mayor que** la cantidad de ●.

b. La cantidad de ● es **igual** a la cantidad de ●.



2  **Compara** las cantidades y remarca la opción correcta.

a.



Hay igualdad

Hay desigualdad



b.



Hay igualdad

Hay desigualdad




3  **Compara** y completa con $>$, $<$ o $=$.

- a. $8 + 3$ $4 + 5$ c. $14 + 2$ $9 + 6$ e. $17 + 1$ 19
b. $7 + 4$ 11 d. $16 + 5$ 20 f. 17 $12 + 5$

Problemas


4  **Resuelve.**

- a. ¿Cuántas monedas puede contener  para que se mantenga la desigualdad?

Respuesta:

► _____




- b. ¿Cuántas monedas tiene  para que la balanza se mantenga en equilibrio?

Respuesta:

► _____



- c. Valentina dice que  puede contener 3 o más monedas. ¿Está en lo correcto?

Respuesta:

► _____

