

# Worksheets for Class- IV

Topic:- Many Objects- Different Shapes  
వివిధ వస్తువులు- వేరు వేరు ఆకారాలు

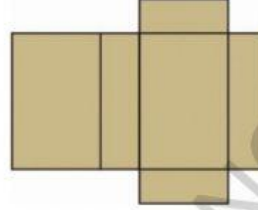
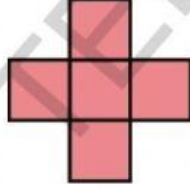
Medium:- All media

Name:-

Subject:- MATHS

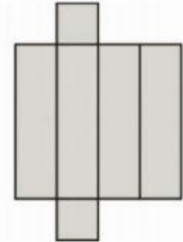
1. ఈ సబ్బు పెట్టెను తెరిచినపుడు కింద ఇచ్చిన ఏ వలరూపంలో ఉంటుంది.  
This soap box will open up into which of these nets?

( క్లిక్-Click )



2. ఈ టూత్ పేస్టు పెట్టెను తెరిచినపుడు కింద ఇచ్చిన ఏ వలరూపంలో ఉంటుంది.  
This toothpaste box will open up into which of these nets?

( క్లిక్-Click )



3. ఈ మూతలేని పెట్టెను తెరిచినపుడు కింద ఇచ్చిన ఏ వలరూపంలో ఉంటుంది.  
This open box will open up into which of these nets?

( క్లిక్-Click )

