

REPASO ESFERA

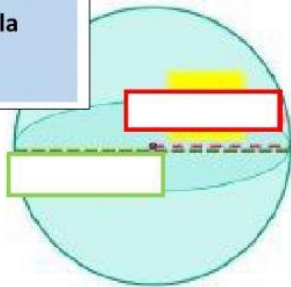
Radio: Línea recta que une el centro de un círculo con cualquier punto del borde de la circunferencia.

Diámetro: Línea recta que une dos puntos de una circunferencia pasando por su centro

π Signo que equivale al número 3,1416, aproximadamente, y que resulta de la relación entre la longitud de una circunferencia y su diámetro.

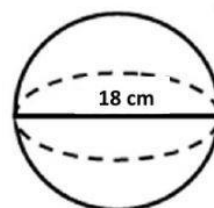
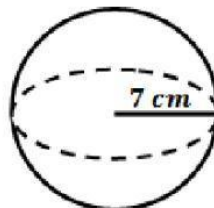
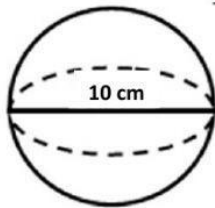
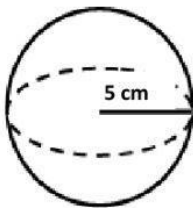
Escribe el nombre que le corresponde a cada parte de la esfera

****PARA EFECTOS DE ESTA UNIDAD PI VALDRA 3****



$$\text{ÁREA} = 4\pi r^2$$

Determina el valor del **radio** de estas esferas



Calcula el área (usando valor π 3)

