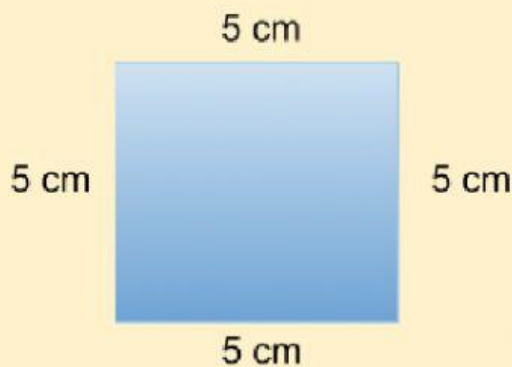


## ÁREA Y PERÍMETRO



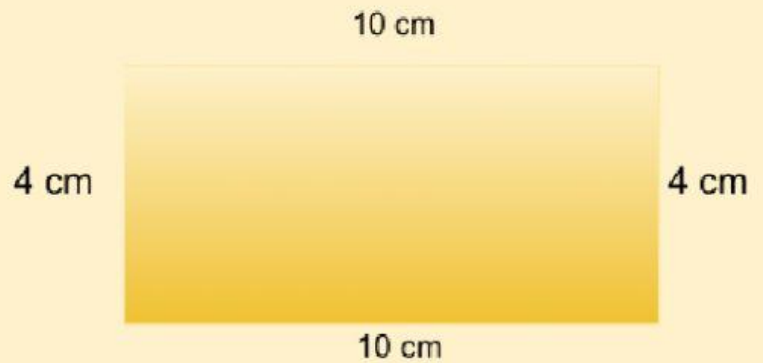
Encuentra el perímetro de las siguientes figuras geométricas



$P = 15 \text{ cm}$

$P = 25 \text{ cm}$

$P = 20 \text{ cm}$

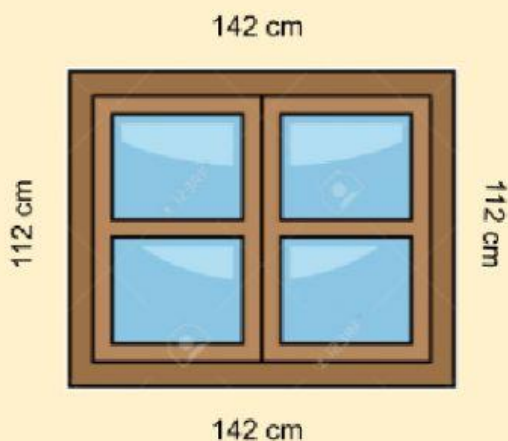


$P = 28 \text{ cm}$

$P = 40 \text{ cm}$

$P = 20 \text{ cm}$

Halla el área de los siguientes objetos y marca la respuesta correcta:



$A = 20.906 \text{ cm}^2$

$A = 508 \text{ cm}^2$

$A = 15.904 \text{ cm}^2$



$A = 260 \text{ cm}^2$

$A = 6.400 \text{ cm}^2$

$A = 4.000 \text{ cm}^2$