



Evaluación Formativa 5: "Fracciones propias, impropias y n° mixtos 5º año (2º trimestre)"

Actividad 1: Clasifica las siguientes fracciones, arrastrando cada una hasta el casillero que le corresponde.

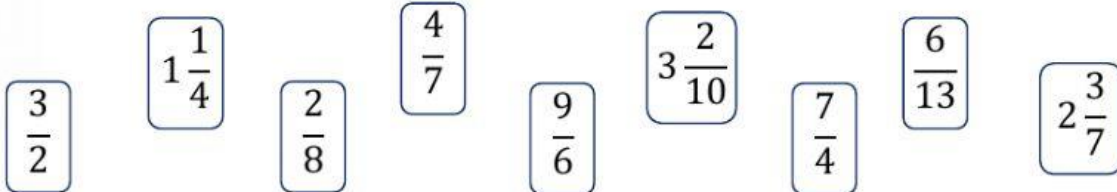
Fracción Propia



Fracción Impropia



Nº Mixto



Actividad 2: Une cada fracción con su representación pictórica y luego con su escritura en palabras. (debes unir punto con punto)

$\frac{7}{4}$ •	•	• Siete cuartos
$1\frac{2}{4}$ •	•	• Un entero y dos cuartos
$\frac{3}{4}$ •	•	• Tres cuartos

Actividad 3: Observa cada representación y escribe el N° mixto que le corresponde

