



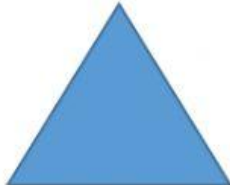

ULANGAN HARIAN SDN KLENDER 16 PAGI

NAMA : _____
KELAS : _____

A. Pilihlah jawaban A, B, C atau D yang menurut kamu benar!

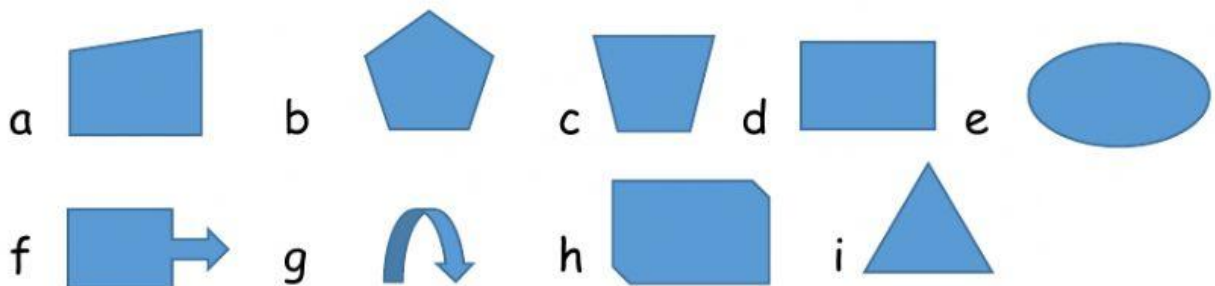
MATEMATIKA

1. Hubungkan bangun segi banyak dengan nama yang yang tepat!

A		<input type="radio"/>	<input type="radio"/>	SEGITIGA
B		<input type="radio"/>	<input type="radio"/>	SEGILIMA
C		<input type="radio"/>	<input type="radio"/>	SEGIENAM
D		<input type="radio"/>	<input type="radio"/>	SEGIEMPAT

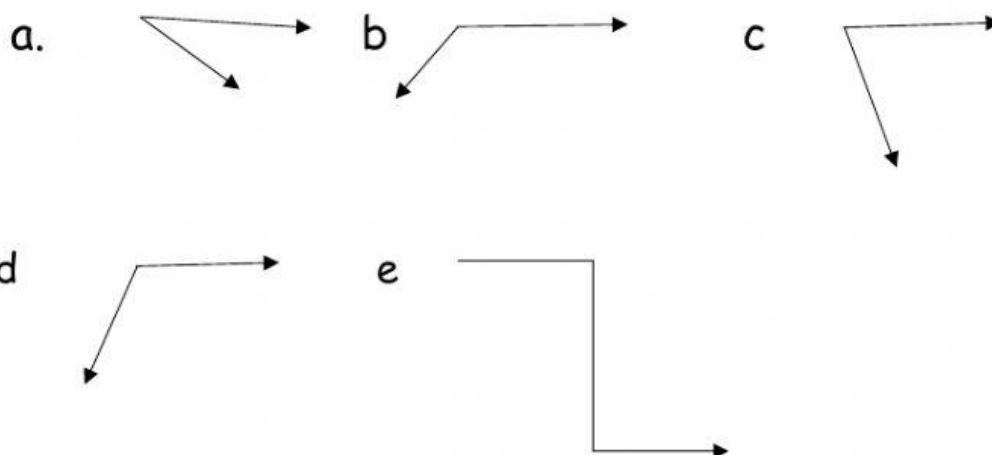
2. Kelompokkan bangun segi banyak berikut menjadi bangun segi banyak beraturan dan tidak beraturan!

Bangun segi banyak beraturan	Bangun segi banyak tidak beraturan



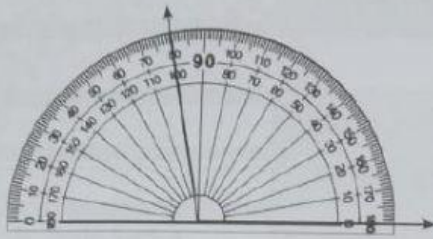
3. Tentukan gambar di bawah ini yang merupakan sudut lancip atau sudut tumpul!

Sudut lancip	Sudut tumpul



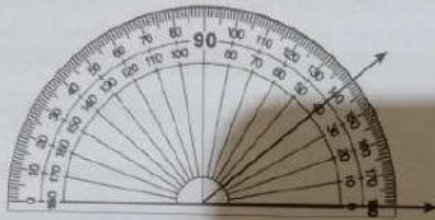
A. Tuliskan besar sudut yang ditunjukkan gambar berikut!

1.




Besar sudut = _____

2.



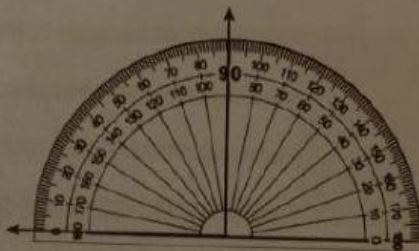
Besar sudut = _____

3.



Besar sudut = _____

4.



Besar sudut = _____

90°

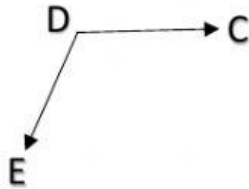
100°

80°

40°

Pilihlah jawaban A, B, C atau D yang menurut kamu benar!

Perhatikan gambar berikut ini untuk menjawab soal nomor 1 dan 2!




1. Nama sudut pada gambar diatas adalah

- A. DCE
- B. ECD
- C. CED
- D. EDC

2. Kaki sudut pada gambar diatas adalah ...

- A. EC dan CE
- B. CD dan DE
- C. CE dan CD
- D. DE dan EC

3.  Jumlah besar sudut bangun datar berikut Adalah

- A. 120°
- B. 180°
- C. 360°
- D. 540°

4.  Besar $\angle C$ pada bangun disamping adalah....

- A. 50°
- B. 80°
- C. 90°
- D. 100°

5. Besar sudut siku - siku adalah

A. 75°

B. 80°

C. 90°

D. 100°