



Nome: \_\_\_\_\_

Data: \_\_\_\_\_

## Oficina de Matemática - Revisão Year 2

### 1) Resolva as operações indicadas

	4	0
+	5	7

	5	8
+	2	7

	8	8
-	3	2

	9	7
-	7	1

### 2) Marque a probabilidade de cada evento.

a) Tira uma bolinha rosa.



- provável
- improvável
- certo
- impossível
- igual probabilidade

b) Tira uma bolinha preta.



- provável
- improvável
- certo
- impossível
- igual probabilidade

c) Tira uma bolinha rosa.



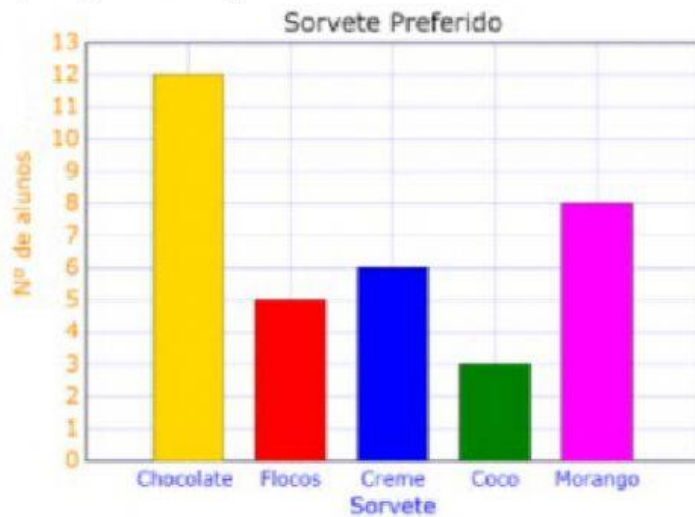
- provável
- improvável
- certo
- impossível
- igual probabilidade

d) Tira uma bolinha preta.



- provável
- improvável
- certo
- impossível
- igual probabilidade

3) O gráfico apresenta o sorvete favorito dos alunos de uma escola.



a) Qual é o sorvete preferido dos alunos?

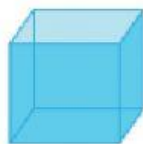
---

b) Quantos alunos preferem sorvete de morango?

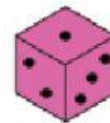
---

4) Circule o objeto que lembra a forma do sólido geométrico indicado.

1)



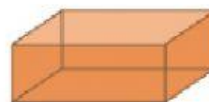
2)



3)



4)



5)



6)

