

**Nome:**

**série:**

ATIVIDADE INTERATIVA ISÔMEROS

Profª Daniela

1) RELACIONE A COLUNA A COM A COLUNA B

**COLUNA A**

Cloreto de propila e cloreto de isopropila;

Pentan-3-ona e 3-metilbutanal;

Butano e isobutano;

Propen-1-ol e propanal;

N-etiletanamida e N-metilpropanamida.

**COLUNA B**

CADEIA

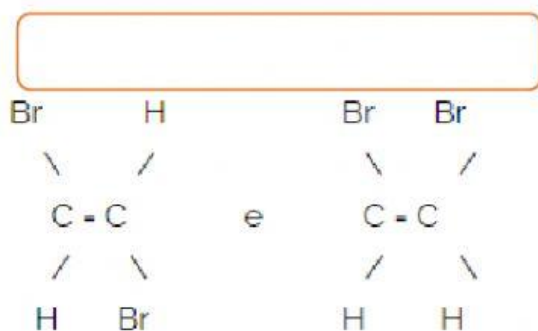
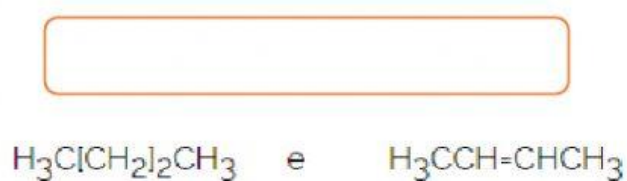
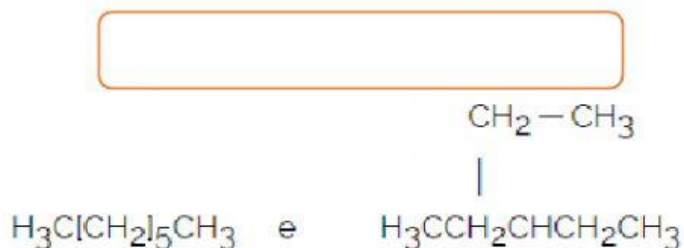
FUNÇÃO

TAUTOMERIA

METAMERIA

POSIÇÃO

2) Na tabela "1" abaixo, são apresentados pares de substâncias orgânicas, e na tabela "2", possíveis correlações entre esses pares: (arraste a classificação das cadeias dentro dos retângulos.



isômeros funcionais

isômeros geométricos

Não são isômeros

isômeros de cadeia