

ALUNO (A): _____

1. OBSERVE E LEIA EM VOZ ALTA A SEQUÊNCIA NUMÉRICA QUE COMEÇA DO 0 INDO ATÉ O 29.

0	1	2	3	4	5	6	7	8	9
10	11	12	13	14	15	16	17	18	19
20	21	22	23	24	25	26	27	28	29

2. AGORA, COMPLETE A SEQUÊNCIA NUMÉRICA ABAIXO.

0	1		3				7	8	
10		12		14			17		19
			23		25			28	

3. COMPLETE AS TABELAS COM OS NÚMEROS QUE VEM ANTES OU DEPOIS, ENTRE OU ABAIXO.

	1	
10	11	12
	21	



7		9
27		29

4		6
14		16
24		26

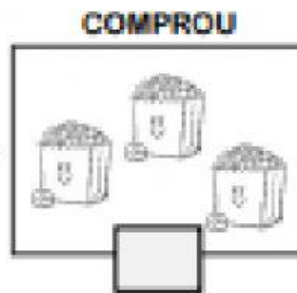
5	6	7
25	26	27

MATEMÁTICA

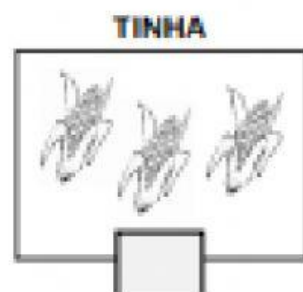
1. AS CRIANÇAS ESTAVAM COM FOME E FORAM À CANTINA. VEJA O QUE CADA UM COMPROU. RESOLVA OS PROBLEMINHAS DE ADIÇÃO.



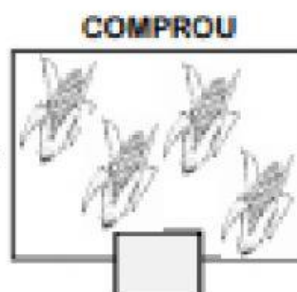
+



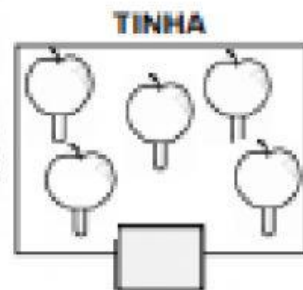
=



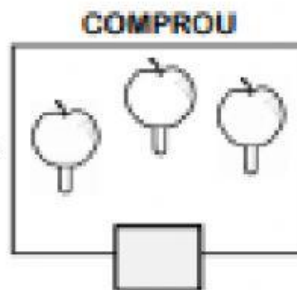
+



=



+



=



2. UMA BARRAQUINHA VENDE PAMONHAS. VEJA QUANTAS JÁ FORAM VENDIDAS E CALCULE QUANTAS SOBRARAM.



-



=



TINHA

VENDEU

SOBROU

Hands on Maths

