




SOAL AKM NUMERASI MATERI PECAHAN

NAMA =

perhatikan gambar berikut!

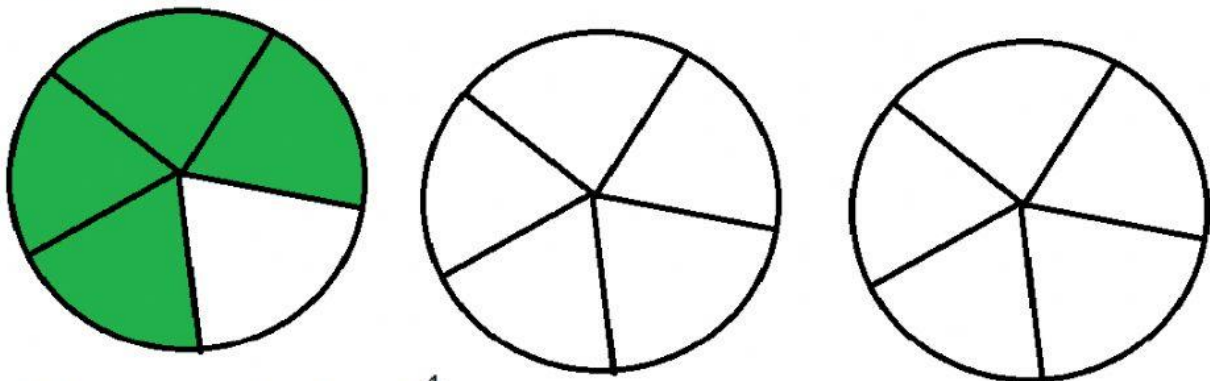


Andi mendapatkan kue $2\frac{3}{7}$ bagian. Berapa banyak bagian kotak putih yang harus Andi arsir agar sesuai bagiannya?

Jawab:

- | | |
|-------------------------|----|
| <input type="radio"/> A | 6 |
| <input type="radio"/> B | 7 |
| <input type="radio"/> C | 9 |
| <input type="radio"/> D | 13 |

Perhatikan gambar berikut!

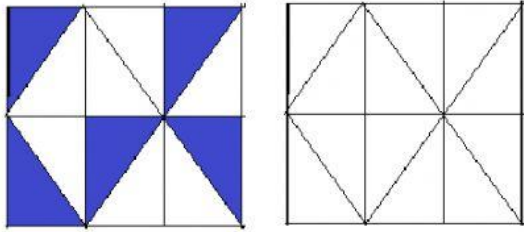


Lukman mendapatkan kue $2\frac{4}{5}$ bagian. Berapa banyak bagian kotak putih yang harus

Lukman arsir agar sesuai dengan bagiannya?

- ☐ A. 7
- ☐ B. 8
- ☐ C. 9
- ☐ D. 10

Perhatikan gambar berikut!



Lukman mendapatkan kue $1 \frac{5}{12}$ bagian. Berapa banyak bagian kotak putih yang harus Lukman arsir agar sesuai dengan bagiannya?

- ☐ A. 10
- ☐ B. 12
- ☐ C. 14
- ☐ D. 16

Perhatikan koleksi stiker milik Anton berikut ini!



Pilihlah 'Benar' atau 'Salah' dari pernyataan berikut ini!

| Pernyataan | Benar | Salah |
|-----------------------------------------------------------|-----------------------|-----------------------|
| Sepertiga stiker milik Anton berbentuk segi delapan. | <input type="radio"/> | <input type="radio"/> |
| Stiker Anton yang paling sedikit adalah berbentuk persegi | <input type="radio"/> | <input type="radio"/> |

Perhatikan gambar berikut!



Pilihlah 'Benar' atau 'Salah' dari pernyataan berikut ini!

Pernyataan

Setengah dari gambar adalah mobil Tank

Seperempat dari gambar adalah Truk

| Benar | Salah |
|-----------------------|-----------------------|
| <input type="radio"/> | <input type="radio"/> |
| <input type="radio"/> | <input type="radio"/> |

Perpustakaan sekolah mendapatkan sumbangan buku-buku dari orangtua murid. Sebanyak 30% adalah buku cerita fiksi, 0.25 buku pelajaran, dan sisanya buku ensiklopedia. Berapa bagian dari semua buku yang disumbangkan merupakan buku ensiklopedia?

| | |
|-------------------------|-------------|
| <input type="radio"/> A | 7/12 bagian |
| <input type="radio"/> B | 9/20 bagian |
| <input type="radio"/> C | 1/3 bagian |
| <input type="radio"/> D | 1/4 bagian |

**Masjid Nurul Huda membagikan daging kurban sebagai berikut!
25% untuk Anak Yatim, 0,60 untuk Fakir miskin dan sisanya untuk
Tetangga. Berapa bagiankah daging kurban yang diberikan kepada
tetangga?**

| | |
|-------------------------|-------------|
| <input type="radio"/> A | 1/4 bagian |
| <input type="radio"/> B | 3/5 bagian |
| <input type="radio"/> C | 3/20 bagian |
| <input type="radio"/> D | 1/20 bagian |