

Name: _____

INFORMATICA _____

Profe. Patricia Cavalieri _____

HOJA DE CÁLCULOS

Encuentra palabras relacionadas con la Hoja de Cálculo

C O L U M N A U A
U F A L U M R O F
N U T F W C L S N
B N N E I E M A O
L C W R R L Y N I
H I N A O D A D S
O O M N E A C H N
J N W G V E S C O
A B S O L U T A F



Celda

Fila

Hoja

Absoluta

Fórmula

Columna

Rango

Fila

Función

Name: _____

Date: _____

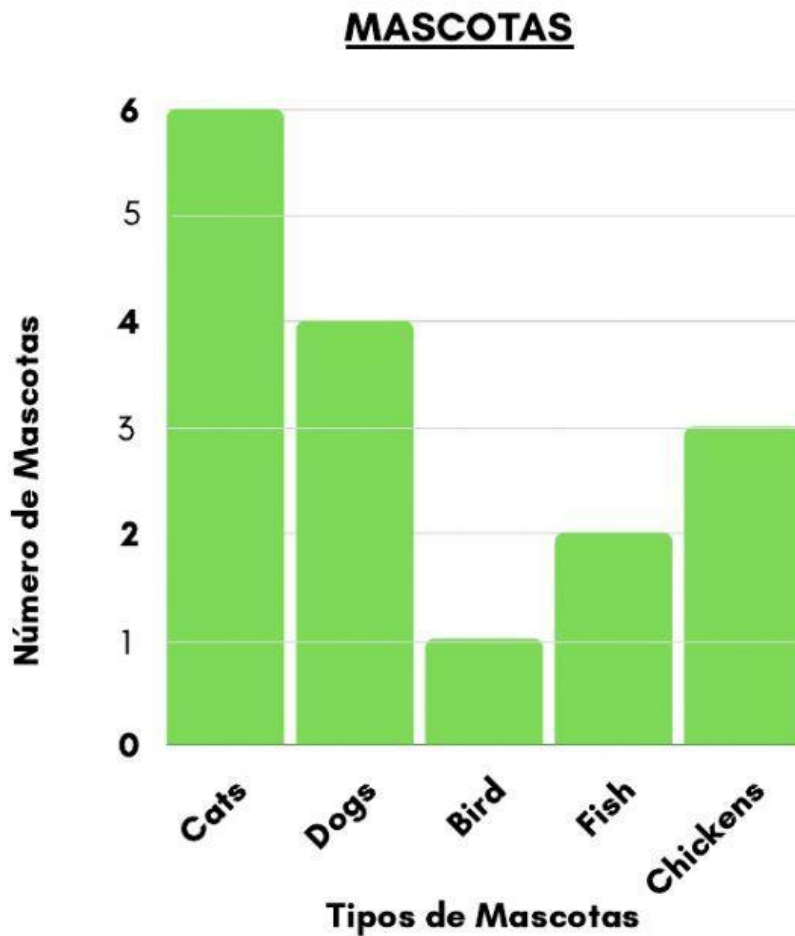


GRÁFICOS INTERPRETACIÓN DE DATOS

Hoja de Cálculo

Profe Patricia Cavalieri

Observa el gráfico y responde



- ¿Cuántos chicos/as tienen gatos? _____
- Uno/a solo/a contestó que se mascota es... _____
- Cual es el animal que esta en 3er lugar como mascota _____
- ¿Cuántos chicos/as fueron encuestados? _____
- ¿Como se llama este tipo de gráfico? _____
- ¿Cuántos chicos/as tienen perros y peces? _____
- ¿Que se representa sobre el eje X? _____

Nombre: _____

Maestro: _____

Grado y grupo: _____

Fecha: _____


USANDO FUNCIONES

¿Que funcion debo utilizar para resolver lo indicado en cada caso?

	A	B	C	D
1	VIVERO SANJO			
2				
3	Variedad	Cant	\$ x Unidad	\$ TOTAL
4	Margarita	50	\$ 53,20	
5	Jazmines	97	\$ 130,00	
6	Rosas	72	\$ 102,50	
7	Fresias	68	\$ 85,00	
8				
9	TOTAL General de VENTAS			
10				
11	Promedio de plantas vendidas			
12				
13	Variedad mas vendida			
14				
15	Variedad menos vendida			
16				



¿Que tipo de gráfico es el que esta representado



Nombre: _____

GRÁFICOS CIRCULARES

Informática



Une con flechas el gráfico con el valor que representa
= 50 equivale al Entero



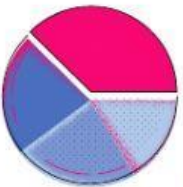
1



=

20

2



=

10

3



=

30

Cuales son elementos que componen una función

Argumentos

Datos

Operadores

Nombre

FUNCIÓN