



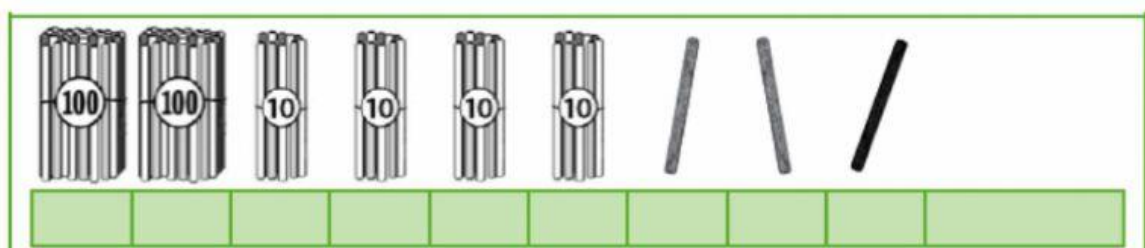
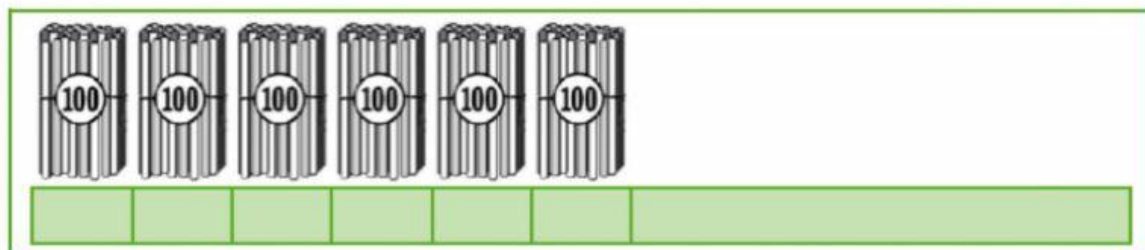
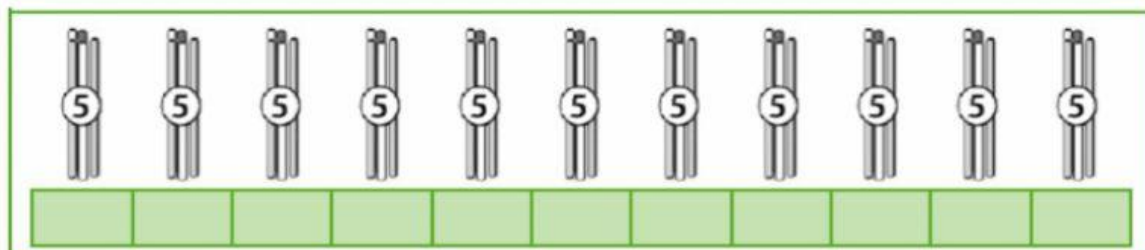
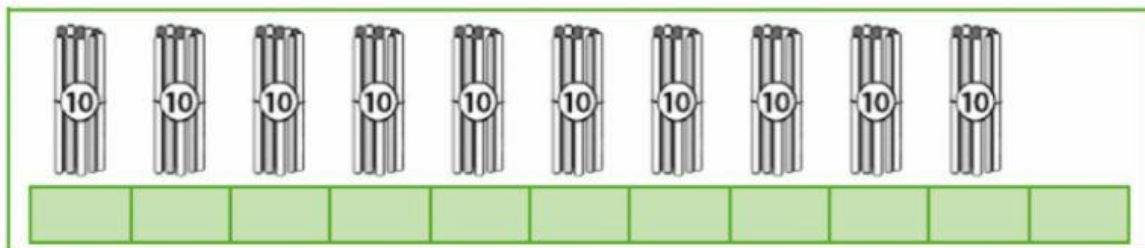


## GUÍA DE TRABAJO NÚMEROS HASTA EL 500

Mira el ejemplo y cuenta los paquetes de palitos como lo hace Marcelo:

¡Ahora están  
agrupados de 10!



10, 20, 30, 40 ...  
¡Hay 40 palotines!





Un vendedor de helados está contando el dinero de sus ventas. Parte contando las monedas de \$100. **Observa el procedimiento que utiliza.**



**Reproduce el procedimiento del vendedor usando tu set de monedas.**

Con el mismo procedimiento del vendedor de helados, cuenta las monedas para indicar el dinero que hay en cada recuadro.



Hay \$ .....



Hay \$ .....



Hay \$ .....



Hay \$ .....



Hay \$ .....