

¿Qué tal el tema 9 de matemáticas?

Vamos a practicar los contenidos

¡¡¡Ánimo campeones!!!

Marca en cada recta numérica dónde están los números que se indican.

695

408



690

700

400

410

571

357



570

580

350

360

Elige la centena más próxima.

140 → 100 200

370 → 300 400

430 → 400 500

280 → 200 300

Selecciona la centena más próxima en cada caso.

725

515

456

684

923

399

Coloca y resuelve.

$550 - 179$

| | | | |
|-------|---|---|---|
| | 5 | 5 | 0 |
| - | 1 | 7 | 9 |
| <hr/> | | | |
| | | | |
| | | | |

$621 - 384$

| | | | |
|-------|---|---|---|
| | 6 | 2 | 1 |
| - | 3 | 8 | 4 |
| <hr/> | | | |
| | | | |
| | | | |

$262 + 159$

| | | | |
|-------|---|---|---|
| | 2 | 6 | 2 |
| + | 1 | 5 | 9 |
| <hr/> | | | |
| | | | |
| | | | |

$536 + 195$

| | | | |
|-------|---|---|---|
| | 5 | 3 | 6 |
| + | 1 | 9 | 5 |
| <hr/> | | | |
| | | | |
| | | | |

$862 - 379$

| | | | |
|-------|---|---|---|
| | 8 | 6 | 2 |
| - | 3 | 7 | 9 |
| <hr/> | | | |
| | | | |
| | | | |

$730 - 149$

| | | | |
|-------|---|---|---|
| | 7 | 3 | 0 |
| - | 1 | 4 | 9 |
| <hr/> | | | |
| | | | |
| | | | |

$669 - 221$

| | | | |
|-------|---|---|---|
| | 6 | 6 | 9 |
| - | 2 | 2 | 1 |
| <hr/> | | | |
| | | | |
| | | | |

$809 - 322$

| | | | |
|-------|---|---|---|
| | 8 | 0 | 9 |
| - | 3 | 2 | 2 |
| <hr/> | | | |
| | | | |
| | | | |

$481 + 223$

| | | | |
|-------|---|---|---|
| | 4 | 8 | 1 |
| + | 2 | 2 | 3 |
| <hr/> | | | |
| | | | |
| | | | |

Escribe el resultado.

$5 \times 2 = \square$

$5 \times 8 = \square$

$5 \times 6 = \square$

$10 \times 4 = \square$

$10 \times 7 = \square$

$10 \times 5 = \square$

Escribe los números que faltan.

$4 \times \square = 28$

$8 \times \square = 48$

$2 \times \square = 18$

$2 \times \square = 10$

$10 \times \square = 30$

$5 \times \square = 25$

$8 \times \square = 24$

$5 \times \square = 35$


$10 \times \square = 40$

$5 \times \square = 45$

$4 \times \square = 16$

$8 \times \square = 64$

Marca la respuesta correcta.



Un lápiz mide:

13 km

13 m

13 cm

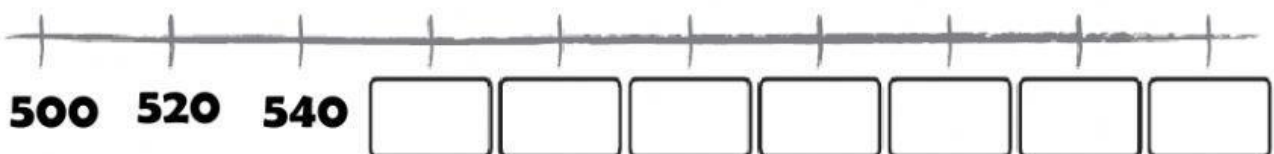
Un edificio mide:

15 m

15 km

15 cm

Cuenta de 20 en 20 y completa la recta.



Calcula mentalmente y escribe los resultados.

$486 + 300 = \square$

$623 + 200 = \square$

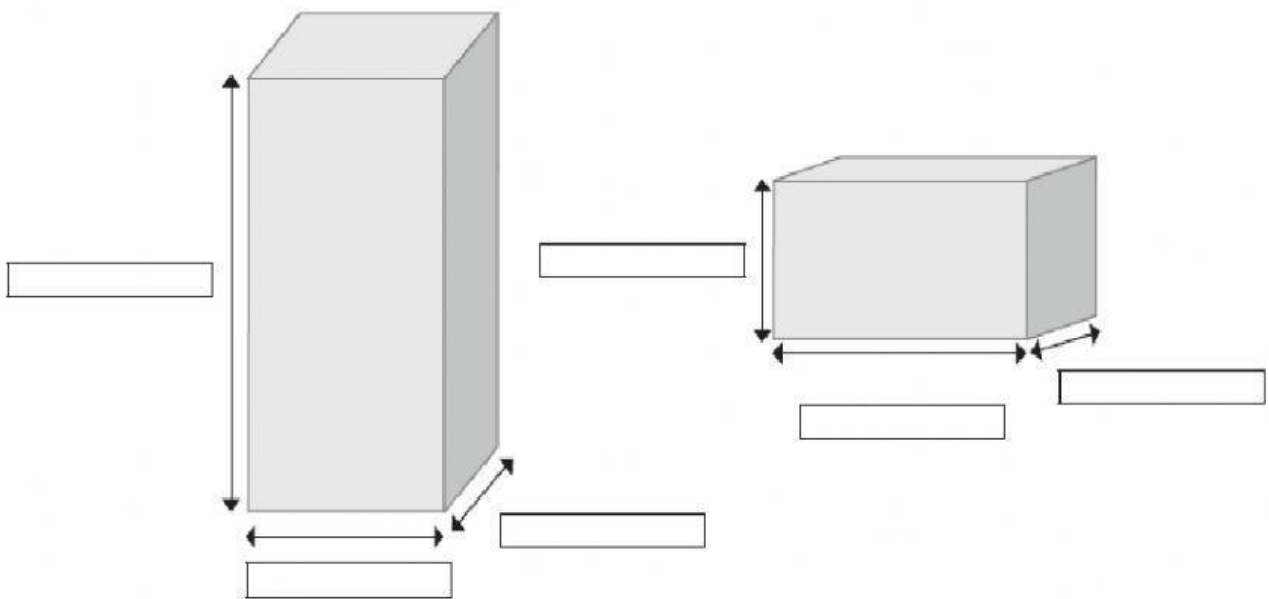
$531 + 300 = \square$

$308 + 100 = \square$

$83 + 400 = \square$

$222 + 500 = \square$

Escribe largo, ancho o alto según corresponda.



¡¡¡HAS TERMINADO!!!

¡¡¡ESTUPENDO!!!

¡Recuerda mandárselo a tus maestras!