

NILAI

Nama	:	
No.Absen	:	
Tanggal	:	



E-LKPD 4


MATA PELAJARAN : MATEMATIKA
MATERI : PERKALIAN DAN PEMBAGIAN BILANGAN BULAT
KELAS : VII (TUJUH)
SEMESTER : GANJIL
ALOKASI WAKTU : 2 X 40 Menit
PENYUSUN : **Edi Susanto, S.Pd.,Gr.**
Tujuan Pembelajaran :

- ❖ Setelah menyaksikan tayangan video, peserta didik dapat melakukan operasi perkalian bilangan bulat dengan tepat.
- ❖ Setelah menyaksikan tayangan video, peserta didik dapat melakukan operasi pembagian bilangan bulat dengan tepat.

PETUNJUK Pengerjaan LKPD:

- ❖ Bacalah dengan teliti setiap langkah-langkah yang diberikan pada LKPD ini.
- ❖ Jawablah setiap pertanyaan dengan mengisi kolom/kotak/lingkaran yang disediakan.
- ❖ Periksa kembali hasil pekerjaan kalian. Jika sudah yakin silakan tekan tombol **"FINISH"**.
- ❖ Untuk melihat skor/hasil silakan pilih dan tekan **"Check My Answer"** lalu **Screenshot** dan kirim gambar ke WA pribadi gurumu.

SILAKAN SIMAK TAYANGAN VIDEO BERIKUT INI:









Perkalian Bilangan Bulat



Ayo jadikan perkalian ini menyenangkan!

Tentukan hasil perkalian berikut dan ketikkan jawaban pada lingkaran yang disediakan!

	9×12	<input type="text"/>	12×-20	<input type="text"/>
	10×11	<input type="text"/>	22×-13	<input type="text"/>
	4×13	<input type="text"/>	8×-16	<input type="text"/>
	-16×15	<input type="text"/>	-2×-132	<input type="text"/>
	-17×15	<input type="text"/>	-30×-6	<input type="text"/>
	-22×6	<input type="text"/>	-25×-32	<input type="text"/>



Pembagian Bilangan Bulat



AYO JADIKAN PEMBAGIAN MENYENANGKAN!

Tentukan hasil pembagian berikut dan ketikkan jawaban pada lingkaran yang disediakan!

$24 : 3$

$48 : -12$

$60 : 15$

$120 : -15$

$96 : 8$

$126 : -14$

$-39 : 3$

$-75 : -15$

$-65 : 13$

$-76 : -19$

$-84 : 7$

$-72 : -6$

