

# PREVERJANJE

## S EVROPA, V EVROPA IN S AZIJA

### 1. Katere države so skandinavske države?

Estonija

Švedska

Finska

Litva

Norveška

Latvija

Islandija

Danska

### 2. Zapisana so glavna mesta. Napiši v kateri državi so. Velika začetnica!

Stockholm- \_\_\_\_\_

Helsinki- \_\_\_\_\_

Riga- \_\_\_\_\_

Talin- \_\_\_\_\_

Reykjavik- \_\_\_\_\_

Oslo- \_\_\_\_\_

### 3. Vpiši imena naravnih enot. Pazi na veliko začetnico.



1 \_\_\_\_\_ gorovje

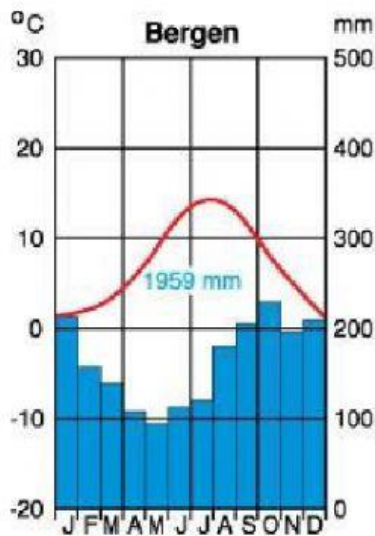
3 \_\_\_\_\_ plošča

4 \_\_\_\_\_ ščit

5 \_\_\_\_\_ morje

6 \_\_\_\_\_ zaliv

**4. Analiziraj klimogram mesta Bergen, ki leži na obali Norveške in dopolni povedi.**



1. Letna količina padavin je \_\_\_\_\_ mm.
2. Najhladnejši mesec, poleg januarja, je \_\_\_\_\_.
3. Najmanj padavin zapade v \_\_\_\_\_.
4. Pozimi temperatura ne pade pod 2°C, zaradi toplega \_\_\_\_\_ toka.
5. Najtoplejši mesec je \_\_\_\_\_, takrat je povprečna temperatura \_\_\_\_\_ °C.

**5. Izberi pravilne trditve.**

- a) V Severni Evropi je samo en tip podnebja.
- b) Glavna dejavnika, ki vplivata na podnebje sta geografska lega in Severnoatlantski tok.
- c) Tundra so obširni iglasti gozdovi.
- d) Obale Danske in Norveške imajo oceansko podnebje.
- e) Fjordi so ledeniško preoblikovane doline, ki jih je zalilo morje.
- f) Gezirji so visoke planote v Skandinavskem gorstvu.
- g) Gezirji so značilni za Islandijo.

**6. Kaj je polarna noč? Izberi pravilne trditve.**

- a) pojav, ko Sonce do pol leta sploh ne vzide,
- b) pojav, ko je ponoči res zelo mrzlo,
- c) pojav, ko se nebo zatemni zaradi sončevega mrka,
- d) pojav, ki se pojavlja samo severno od severnega tečajnika in južno od južnega tečajnika.

**7. Gospodarstvo S Evrope. Poveži, tako da potegneš črto.**

Islandija	lesna in papirna industrija
Finska	najredkeje poseljena država
Švedska	ugodni pogoji za kmetijstvo
Danska	zelo razvita jeklarska industrija

**8. Države Vzhodne Evrope označi na zemljevidu, tako da v okvirček zapišeš številko izpred države.**



1. Ukrajina
2. Moldavija
3. Rusija
4. Belorusija

9. Pred tabo je fizični zemljevid Vzhodne Evrope z Rusijo. Poimenuj reke (št. 1,3 in 5), nižavja (4 in 6) ter gorovje (2) in višavje (7).



1: \_\_\_\_\_

5: \_\_\_\_\_

2: \_\_\_\_\_

6: \_\_\_\_\_

3: \_\_\_\_\_

7: \_\_\_\_\_

4: \_\_\_\_\_

10. V Vzhodni Evropi in Severni Aziji živijo večinoma slovanski narodi.

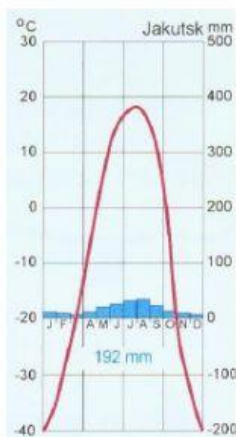
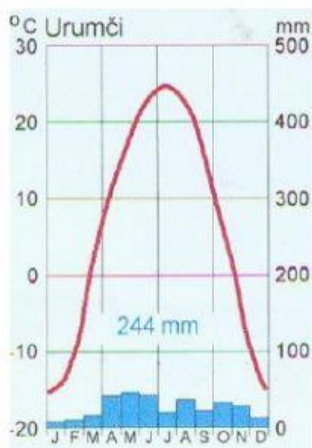
Obkljukaj, če trditev drži.

1. Najštevilčnejši slovanski narod tega območja so Ukrajinci.
2. Ruščina, ukrajinščina in beloruščina so precej podobni jeziki.
3. Najpomembnejši jezik v Sovjetski zvezi je bila ruščina.
4. Moldavija je edina država te regije, kjer govorijo germanski jezik.
5. Na tem območju prevladuje protestantska veroizpoved.



## 11. V Vzhodni Evropi in Severni Aziji prevladuje celinsko podnebje.

a) Oglej si klimograma in odgovori na vprašanja.



1. Kateri kraj je hladnejši?

\_\_\_\_\_

2. Koliko znaša temperaturna razlika med najhladnejšim in najtoplejšim mesecem v Jakutsku? \_\_\_\_\_

3. Klimogram katerega kraja predstavlja bolj celinsko podnebje?

\_\_\_\_\_

## 5. V Vzhodni Evropi in Severni Aziji je kar nekaj velikih rek in jezer.

Najdaljša ruska reka je a) *Lena* b) *Volga* c) *Dneper*

Najdaljša ukrajinska reka je a) *Lena* b) *Volga* c) *Dneper*

Največje sibirske reke tečejo v smeri a) *V-Z* b) *S-J* c) *J-S* d) *Z-V*

Ogromno jezero na jugu Sibirije je \_\_\_\_\_ jezero. Je

a) *največje* b) *najgloblje* c) *najlepše* d) *najbolj mrzlo* jezero na svetu.