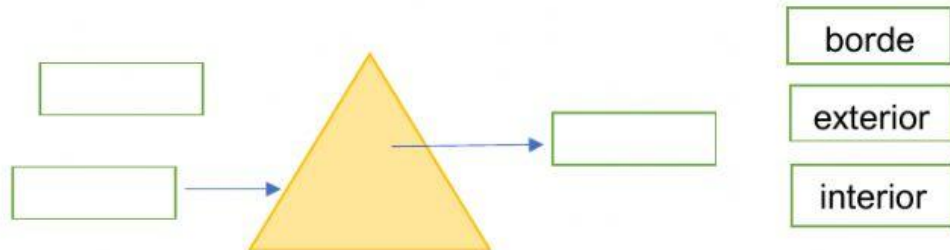
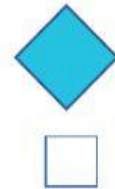
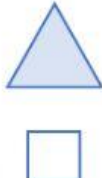



Tema: Figuras geométricas

Identifica en la siguiente figura las 3 regiones que posee.



Marca los vértices de cada figura. Luego, cuéntalos y escribe.



Une cada dibujo con la figura geométrica a la que se parece.

