

ESCOLA: _____

ALUNO (A): _____ TURMA: _____





ATIVIDADE DE MATEMÁTICA

1. Observe a tabela dos supermercados novamente e responda:

Produtos	Supermercado Nota 10	Supermercado Super legal	Supermercado Luar
 Jogo de panelas	195 Reais	159 Reais	210 Reais
 Lata de tinta	158 Reais	160 Reais	180 Reais
 Tênis	111 Reais	199 Reais	110 Reais
 Bicicleta	358 Reais	350 Reais	367 Reais
 Cadeira	129 Reais	119 Reais	128 Reais

- a) Qual o produto mais caro de todos? _____
- b) Qual o produto mais barato de todos? _____
- c) Se você fosse comprar um tênis, em qual supermercado compraria? Por quê?
- _____
- _____
- _____

2. Observe abaixo a quantidade de pés de alface que 4 pessoas colheram. Qual dessas pessoas colheu mais pés de alface?

			
Joana	Marcos	Paulo	José

A. () José B. () Marcos C. () Joana D. () Paulo

3. Observe a numeração das casas e descubra o número da casa de Gabriela, seguindo as pistas.



- É maior que 21.
- É menor que 43.
- É maior que 27.



Então, o número da casa de Gabriela é _____