

QUIZIZZ

Penyajian Data Tunggal 15 Soal

15 Questions

NAME : _____

CLASS : _____

DATE : _____

1. Cabang dari Matematika yang mempelajari cara pengumpulan, penyajian, penganalisaan, dan penarikan kesimpulan dari data disebut

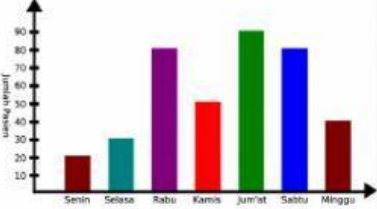
- a) statistika
- b) aljabar
- c) statistik
- d) variabel

2.

Pekerjaan Orang Tua Siswa	Jumlah
Petani	23
Guru	7
Penjahit	4
Buruh	10
Polisi	5

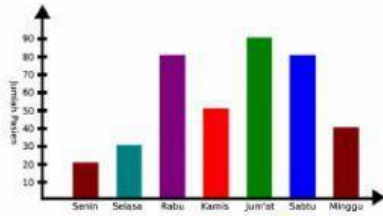
 Jumlah siswa pada data dalam tabel adalah ...

- a) 23
- b) 48
- c) 49
- d) 59

3.  Kenaikan jumlah pasien paling banyak terjadi pada hari ...

- a) Rabu
- b) Kamis
- c) Jumat
- d) Sabtu

4.

Pernyataan yang *tidak* benar mengenai data tabel adalah...

- a) Pada hari kamis jumlah pasien adalah 50 orang
- b) Pada hari jum'at merupakan jumlah pasien paling banyak
- c) Penurunan paling banyak terjadi pada hari senin
- d) Pada hari selasa pengunjung naik sebanyak 10 orang

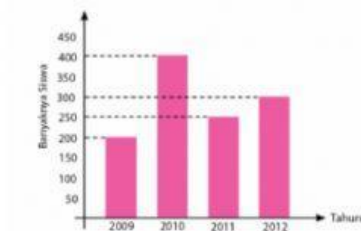
5.



Siswa yang lulus sebanyak 50 orang terjadi pada tahun ...

- a) 2001
- b) 2002
- c) 2003
- d) 2004

6.



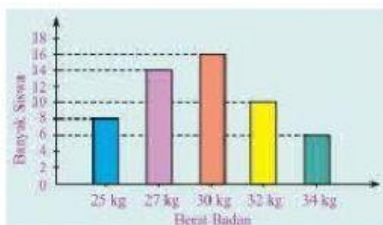
Data siswa SMP "BINTANG" dari Tahun 2009 sampai Tahun 2012.

Selisih banyaknya siswa tahun 2012 dan tahun 2009 adalah

....

- a) 25 orang
- b) 50 orang
- c) 75 orang
- d) 100 orang

7.



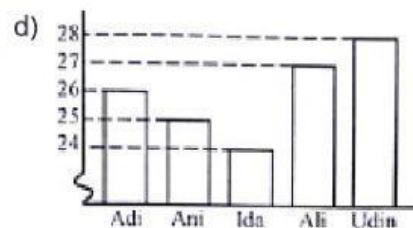
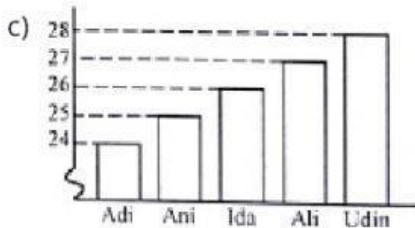
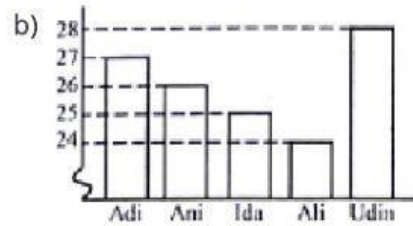
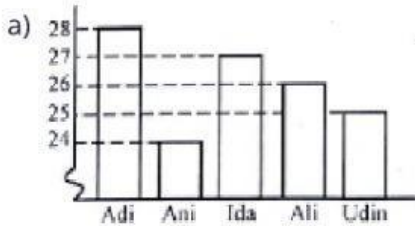
Berat badan yang paling banyak dari diagram tersebut adalah ... kg.

- a) 14
- b) 16
- c) 27
- d) 30

8.

Nama Siswa	Berat Badan
Adi	28 kg
Ani	24 kg
Ida	27 kg
Ali	26 kg
Udin	25 kg

Berikut data berat badan sekelompok siswa kelas 3 SD. Diagram batang dari data tersebut adalah



9.



Data pada diagram menggambarkan prosentase alokasi pendapatan suatu keluarga setiap bulannya. Prosentase pendapatan keluarga yang dialokasikan untuk pendidikan anak sama dengan ...

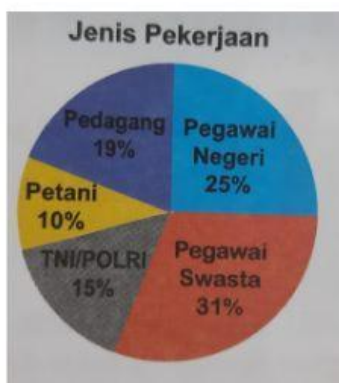
a) 10%

b) 12%

c) 14%

d) 16%

10.



Pada diagram lingkaran menunjukkan hasil survey jenis pekerjaan 180 orang. Banyaknya orang tua siswa yang bekerja sebagai petani adalah ... orang.

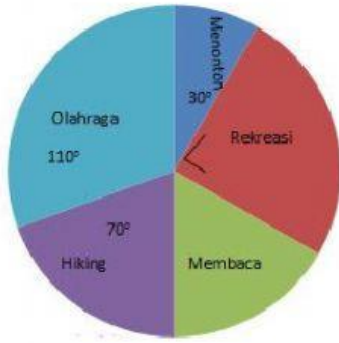
a) 18

b) 25

c) 30

d) 36

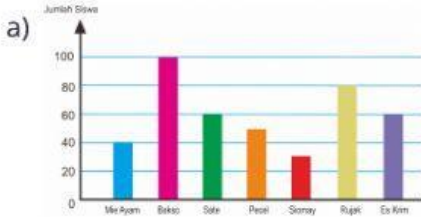
11.



Jika jumlah siswa 900 orang, maka banyaknya siswa yang memilih ekskul membaca adalah ...

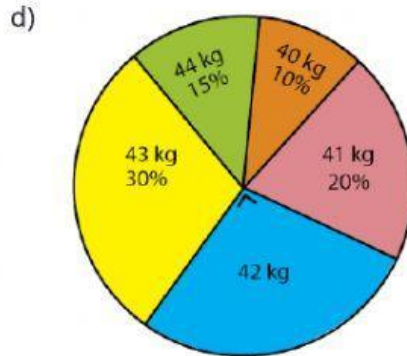
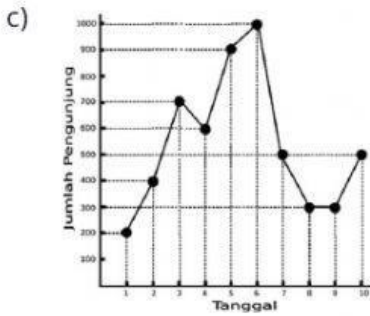
- a) 150
- b) 250
- c) 600
- d) 420

12. Manakah yang dinamakan diagram garis?

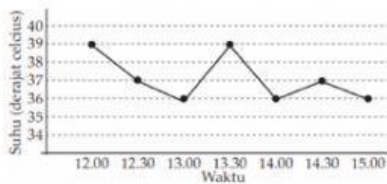


b)

No	Berat Badan	Frekuensi
1	40 kg	6
2	41 kg	12
3	42 kg	15
4	43 kg	18
5	44 kg	9
Jumlah		60



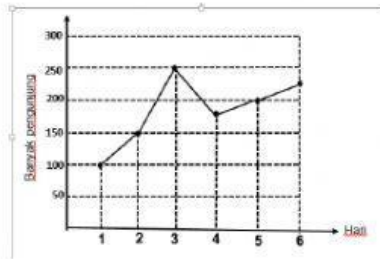
13.



Suhu badan pasien pada pukul 14.30 adalah ...

- a) 36°C
- b) 37°C
- c) 38°C
- d) 39°C

14.



Data banyak pengunjung sebuah museum selama enam hari disajikan dalam diagram garis. Banyak pengunjung pada hari ke-2 dan hari ke-3 adalah

- a) 150 orang
 b) 250 orang
 c) 400 orang
 d) 450 orang

15.



Jika KKM Matematika 7, maka jumlah siswa yang lulus adalah ...

- a) 22
 b) 11
 c) 33
 d) 29