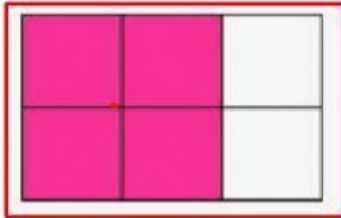


# FRACCIONES PROPIAS E IMPROPIAS

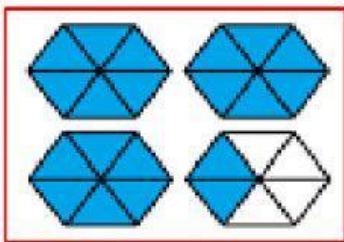


Observa los gráficos, luego escribe la fracción que corresponde, selecciona si es propia e impropia, luego escribe como se lee.




Selecciona el tipo de fracción

Escribe como se lee:



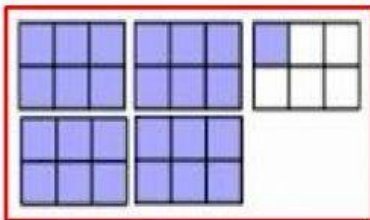
Selecciona el tipo de fracción

Escribe como se lee:



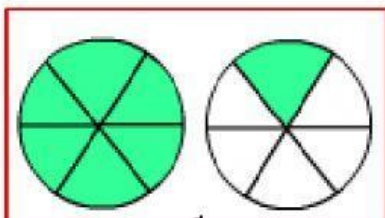
Selecciona el tipo de fracción

Escribe como se lee:



Selecciona el tipo de fracción

Escribe como se lee:



Selecciona el tipo de fracción

Escribe como se lee: