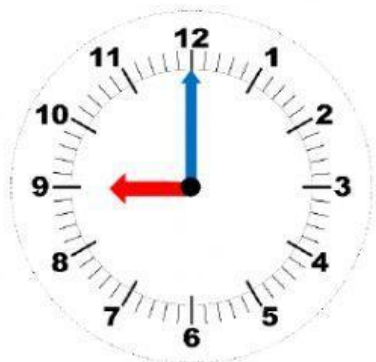




Nombre:

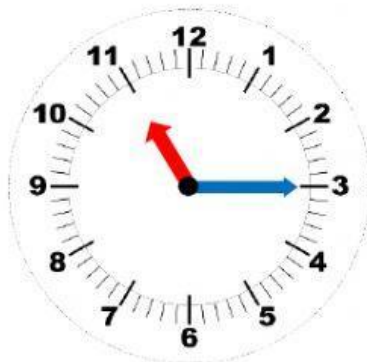
REPASO DE MATEMÁTICAS 5

1. Fíjate en los relojes y elige la respuesta correcta.



9 y cuarto

9 en punto



11 y cuarto

11 y media



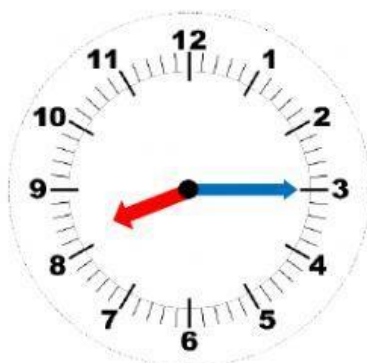
6 menos cuarto

7 menos cuarto




4 y cuarto

4 y media



8 y cuarto

8 y media



2 menos cuarto

3 menos cuarto



2. Une los siguientes relojes con la hora correspondiente.



3 menos cuarto



3 en punto




2 y media



2 y cuarto

3 Arrastra cada reloj analógico al lado del reloj de agujas correspondiente.

a)



12 : 15

b)



01 : 00

c)



08 : 45

d)



10 : 15

e)



06 : 30

