



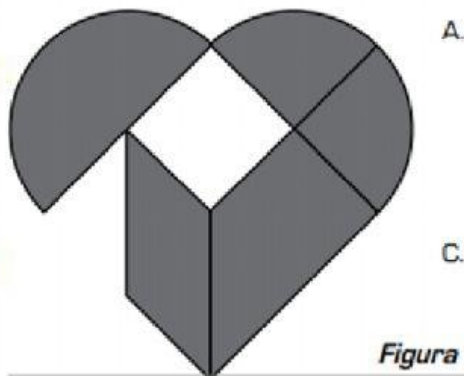


Prueba saber #4

Lea detenidamente cada situación y seleccione solo una opción.

1. Para armar la figura del corazón faltan 2 fichas.

¿Cuáles son las 2 fichas que faltan?



2. Al perro Rufo le tomaron algunas medidas, pero olvidaron escribir la información completa en su ficha. Observa

Ficha de la mascota	
Animal:	Perro
Nombre:	Rufo
Edad:	2 años
Peso:	3 _____
Tamaño:	32 centímetros



La palabra que debe ir en la línea es:

- A. meses.
- B. centímetros.
- C. kilogramos.
- D. decímetros.

Prueba saber #4

3. A Tomás le ofrecen boletas para una rifa con los siguientes números:

112	655	372
898	987	654
669	756	518



Él quiere una boleta que tenga el dígito 7. ¿En cuál de las opciones, todas las boletas tienen el dígito 7?

- A.

112	655	372
-----	-----	-----

 C.

372	987	756
-----	-----	-----
- B.

655	987	756
-----	-----	-----

 D.

112	898	669
-----	-----	-----

4. Tres motociclistas participaron en una carrera. La tabla muestra el tiempo que empleó cada uno

	<i>motociclista 3</i>	<i>motociclista 2</i>	<i>motociclista 1</i>
Motociclista			
Tiempo	media hora	1 hora	1 hora y media

¿Cuántos minutos tardó el motociclista 2 en llegar a la meta?

- A. 30 minutos.
B. 60 minutos.
C. 100 minutos.
D. 120 minutos

5. Observa el color preferido para escribir de 10 estudiantes:

Verde, morado, azul, negro, verde, azul, negro, azul, azul, negro.

¿Con cuál color prefieren escribir la mayoría de los estudiantes?

- A. Azul.
B. Verde.
C. Negro.
D. Morado.

