



**LATIHAN SOAL MATEMATIKA**  
**SD WIDYA WIYATA TAHUN AJARAN 2021-2022**

Nama :

Kelas : 2 (dua)

Tema : Hidup Rukun

Muatan Pelajaran : Matematika

Hari / Tanggal :

---

---

**I. Simak Video Berikut!**

Video memuat tentang pembelajaran Matematika dengan materi Bilangan Cacah Ratusan

<https://youtu.be/RUBIZXrDjZg>

**II. Pilihlah Jawaban Yang tepat!**

1. 256, angka 2 pada bilangan tersebut menempati nilai tempat .....  
a. Ratusan                      b. Puluhan                      c. Satuan
2. Seratus empat puluh lima adalah nama bilangan dari angka .....  
a. 514                      b. 154                      c. 145
3. 256 ..... 128, tanda yang tepat untuk membandingkan dua angka tersebut adalah .....  
a. <                      b. >                      c. =

4. 375, nilai dari angka 7 pada bilangan tersebut adalah .....  
a. 700                                      b. 70                                      c. 7
5. Angka yang sesuai untuk melengkapi deret angka berikut adalah .....  
156, 157, ....., 159, 160  
a. 158                                      b. 159                                      c. 155

**III. Pasangkan Jawaban yang sesuai dengan pertanyaan!**

305, 202, 188, 125

345

125, 188, 202, 305

lima ratus enam puluh tujuh

kurang dari

6. Tiga ratus empat puluh lima

7. 567

8. **125, 305, 188, 202**

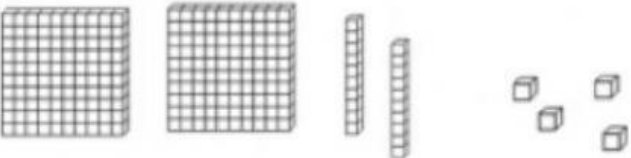



Urutan yang dari angka terkecil adalah

9. **125, 305, 188, 202**

Urutan yang dari angka terbesar adalah

10. **545**      **600**

#### IV. Tarik Garis untuk jawaban yang tepat!

	●	141
	●	306
	●	224
	●	325
	●	460
	●	82