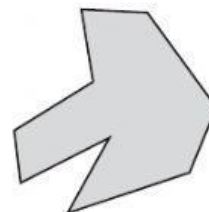
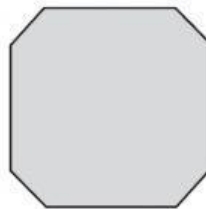


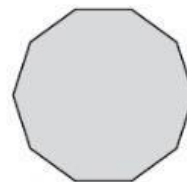
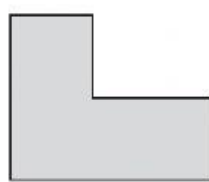
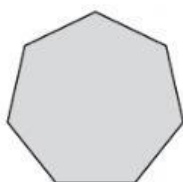
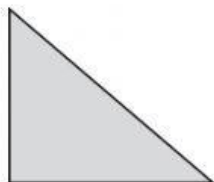


FICHA FIGURAS PLANAS - 2

5 Escribe el nombre de estos polígonos.



6 Completa las definiciones siguientes con las palabras del cuadro.

circunferencia radio centro círculo diametro circunferencia

Una es una línea curva que tiene sus puntos a la misma distancia del centro.

Un es la figura plana formada por una y su interior.

El es un segmento que une el centro con un punto de la circunferencia.

El es el segmento que une dos puntos de la circunferencia pasando por el

7 Lee las siguientes definiciones y completa el crucigrama.

1. Tiene los lados paralelos e iguales y los ángulos iguales dos a dos.
2. Tiene los lados paralelos e iguales dos a dos y los ángulos iguales.
3. Tiene dos lados paralelos.
4. Tiene los lados paralelos e iguales y los ángulos iguales.
5. No tiene lados paralelos.
6. Tiene los lados paralelos e iguales dos a dos y los ángulos iguales dos a dos.

