



# MATHEMATICS

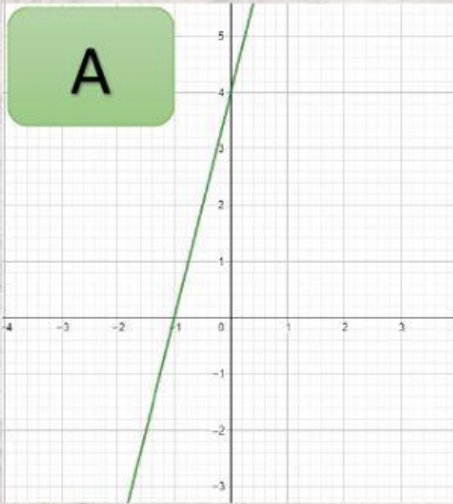


NOMBRE: \_\_\_\_\_

FECHA: \_\_\_\_\_

## ECUACIÓN CANÓNICA DE LA RECTA

### A. UNIR LA ECUACIÓN CANÓNICA DE LA RECTA CON SU RESPECTIVA GRÁFICA



$$f(x) = 2x - 4$$

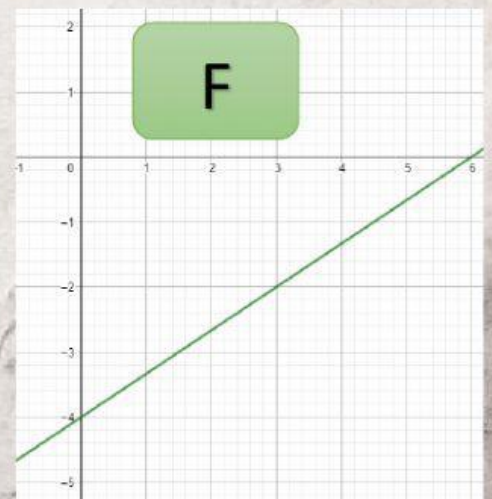
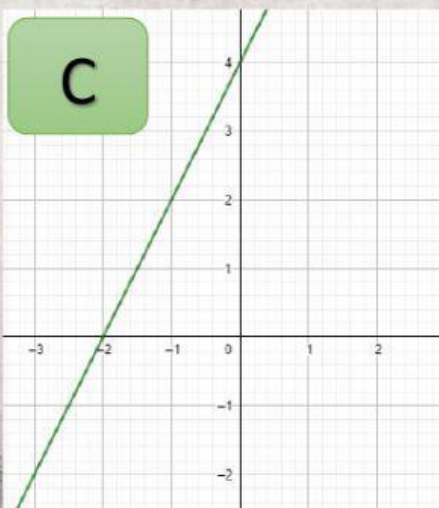
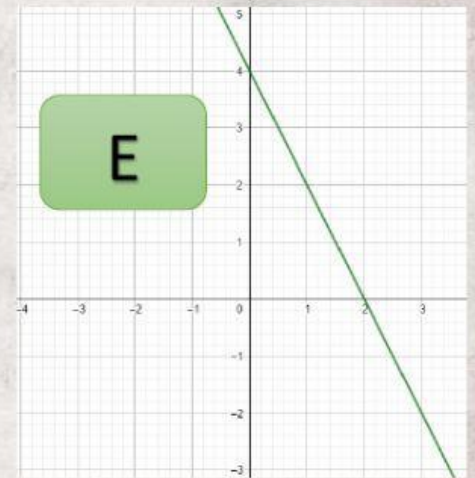
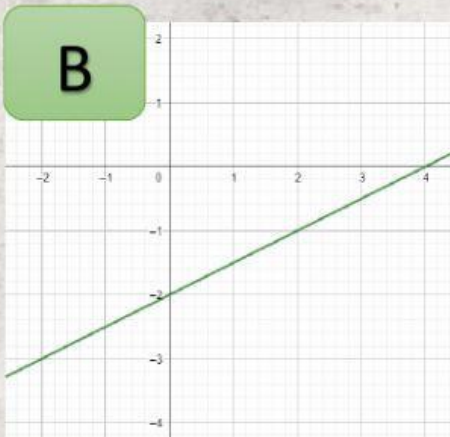
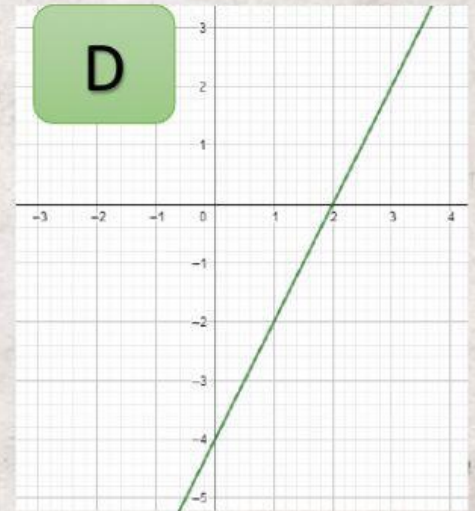
$$f(x) = -2x + 4$$

$$f(x) = 2x + 4$$

$$f(x) = 4x + 4$$

$$f(x) = \frac{1}{2}x - 2$$

$$f(x) = \frac{1}{3}x - 4$$





B. SEÑALE SEGÚN SU PENDIENTE LA LETRA DE LAS GRAFICAS CUYAS PENDIENTES SEAN CRECIENTES O DECRECIENTES.

CRECIENTES	DECRECIENTES
A B C	A B C
D E F	D E F