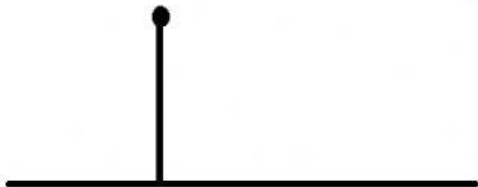
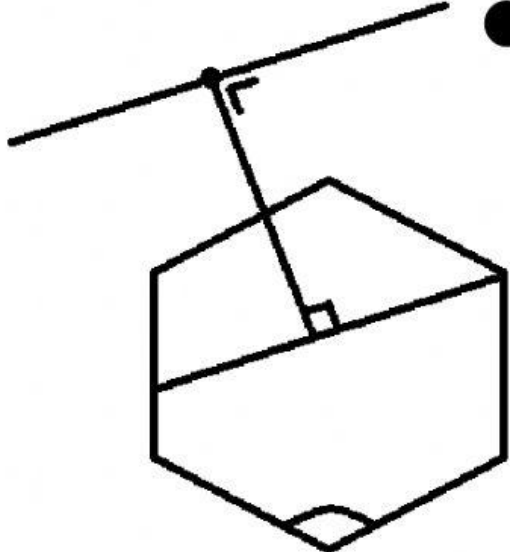


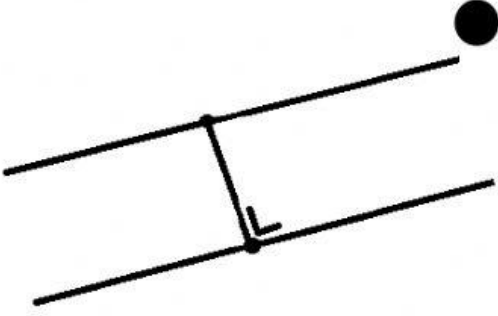
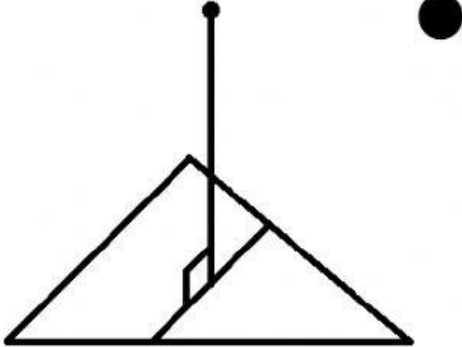
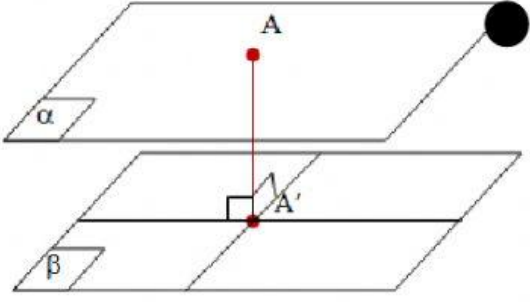
NAMA :

KELAS :

NO. PRESENSI :

HUBUNGKAN GAMBAR DI BAWAH INI DENGAN JAWABAN YANG TEPAT DI SAMPINGNYA.

	<ul style="list-style-type: none">• JARAK ANTARA DUA BIDANG YANG SEJAJAR• JARAK ANTARA DUA GARIS YANG SEJAJAR• JARAK TITIK DENGAN GARIS• JARAK ANTARA DUA GARIS YANG SEJAJAR• JARAK GARIS DENGAN BIDANG
	<ul style="list-style-type: none">• JARAK ANTARA DUA BIDANG YANG SEJAJAR• JARAK ANTARA DUA GARIS YANG SEJAJAR• JARAK TITIK DENGAN GARIS• JARAK ANTARA DUA GARIS YANG SEJAJAR• JARAK GARIS DENGAN BIDANG

	<ul style="list-style-type: none"> • JARAK ANTARA DUA BIDANG YANG SEJAJAR • JARAK ANTARA DUA GARIS YANG SEJAJAR • JARAK TITIK DENGAN GARIS • JARAK ANTARA DUA GARIS YANG SEJAJAR • JARAK GARIS DENGAN BIDANG
	<ul style="list-style-type: none"> • JARAK ANTARA DUA BIDANG YANG SEJAJAR • JARAK ANTARA DUA GARIS YANG SEJAJAR • JARAK TITIK DENGAN GARIS • JARAK ANTARA DUA GARIS YANG SEJAJAR • JARAK GARIS DENGAN BIDANG
	<ul style="list-style-type: none"> • JARAK ANTARA DUA BIDANG YANG SEJAJAR • JARAK ANTARA DUA GARIS YANG SEJAJAR • JARAK TITIK DENGAN GARIS • JARAK ANTARA DUA GARIS YANG SEJAJAR • JARAK GARIS DENGAN BIDANG