

**LEMBAR KERJA PESERTA DIDIK (LKPD)**



NAMA

KELAS

**KELAS 4**

Simaklah video berikut ini



**A. Isilah pada kotak dibawah ini !**

Berasal dari manakah rumah adat berikut !



**LKPD**

**Pola Lantai , Pecahan senilai**

**NAMA :**

**KELAS :**

Simaklah video berikut

Simaklah video berikut ini

Pilihlah jawaban dengan mengklik kotak !



Nama tari  
Pola lantai



Nama tari  
Pola lantai



Nama tari  
Pola lantai

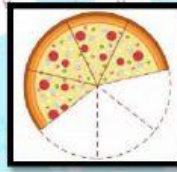


Nama tari  
Pola lantai



Nama tari  
Pola lantai

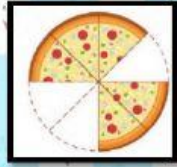
Tentukan pecahan dari gambar berikut ! Isipulhan



a Tiga per tujuh

b Empat per tujuh

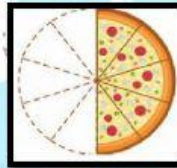
c Tujuh per tiga



a Lima per tiga

b Lima per delapan

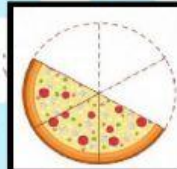
c Tiga per delapan



a Sepuluh per lima

b Lima per sepuluh

c Lima per sembilan



a Enam per tiga

b Tiga per tiga

c Tiga per enam



