

UNIDAD EDUCATIVA "CLARETIANA"

LECCIÓN DEL SEGUNDO PARCIAL

PRIMER QUIMESTRE

Año Lectivo 2021– 2022

Calificación:

DATOS INFORMATIVOS

Nombre:

Fecha:

Curso:

Asignatura: Matemáticas

Docente: Lcda. Gabriela Quiridumbay

Indicaciones Generales:

- 🔗 Lea con atención las cuestiones, piense y conteste según instrucciones.
- 🔗 La Evaluación es calificada sobre 10 puntos.
- 🔗 Cualquier intento de deshonestidad académica durante la evaluación, equivale a la anulación de la nota (Art. 223 R-LOEI)
- 🔗 La evaluación tiene la duración equivalente a una hora clase, acabado el tiempo ya no podrá realizarla.
- 🔗 Debe de tener la cámara y el micrófono de su dispositivo siempre activados.

1.- REALIZAR LAS SIGUIENTES CONVERSIONES

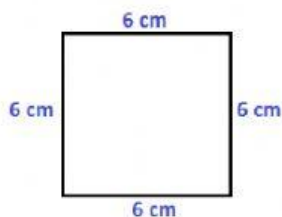
56 km a cm _____

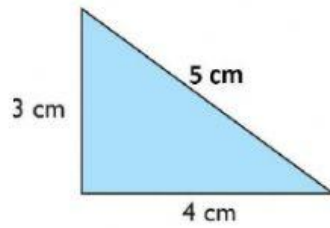
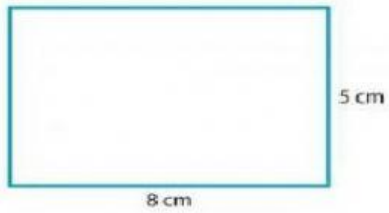
38Hm a m _____

200 M a km _____

6000cm a Dam _____

2.- DETERMINA EL PERIMETRO DE CADA FIGURA





3.- COMPLETA

- a.- 24,32,40,48,56 son múltiplos de _____
- b.- 60, 72, 84, 96, 108 son múltiplos de _____
- c.- 18, 27,36,45, 54 son múltiplos de _____
- d.- 21,35,49,63, 77 son múltiplos de _____