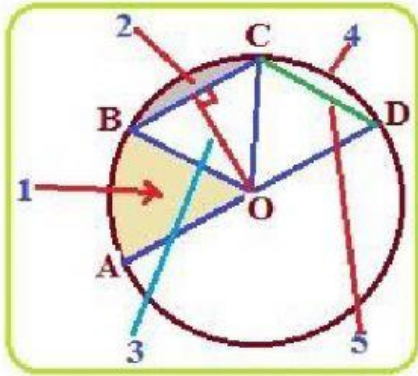
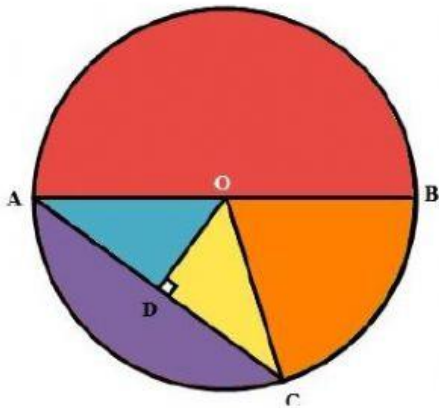


Unsur Unsur Lingkaran

1. Pada gambar tersebut, nomor 1 disebut



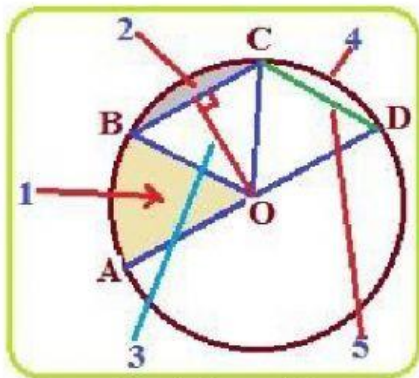
- a)juring
 - b)tembereng
 - c)busur
 - d)tali busur
2. Perhatikan gambar berikut



Garis AC pada gambar lingkaran di atas disebut ...

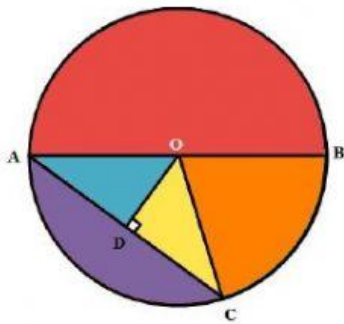
- a)jari-jari
 - b)diameter
 - c)tali busur
 - d)busur
3. Garis lurus yang menghubungkan dua titik pada lengkungan lingkaran dan melalui titik pusat disebut ...
- a)Jari-jari
 - b)Titik Pusat
 - c)Garis Lengkung
 - d)Diameter

4. Pernyataan berikut ini yang benar adalah



- a) Busur ditunjukkan oleh nomor 5
- b) Juring ditunjukkan oleh nomor 4
- c) Tembereng ditunjukkan oleh nomor 2
- d) Jari-jari ditunjukkan oleh nomor 3

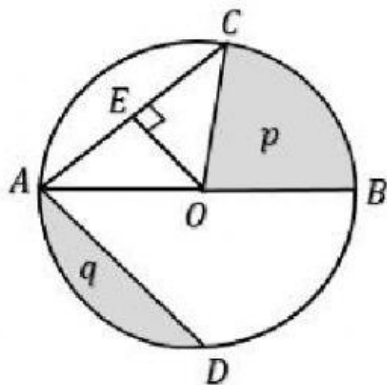
5. Perhatikan gambar berikut



Titik pusat pada lingkaran tersebut adalah titik

- a) O
- b) A
- c) C
- d) D

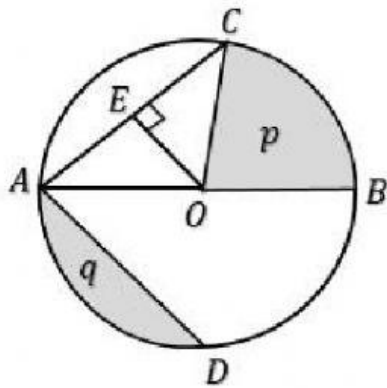
6. Perhatikan gambar berikut !



Diameter pada lingkaran tersebut ditunjukkan oleh garis

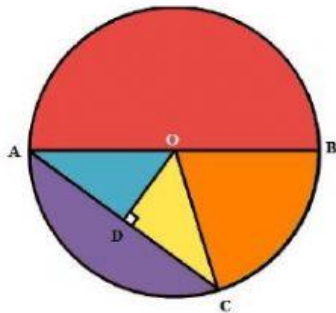
- a)AD
- b)OC
- c)EO
- d)AB

7. Garis EO pada gambar lingkaran berikut adlah ...



- a)jari-jari
- b)Apotema
- c)diameter
- d)busur

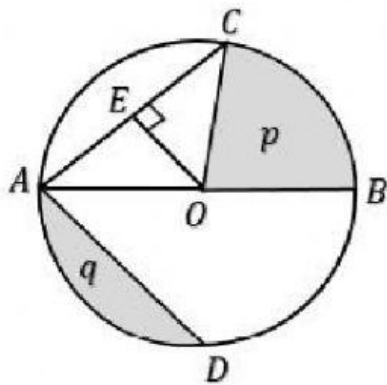
8. Perhatikan gambar berikut !



Selain garis lengkung BC, busur lingkaran pada gambar tersebut adalah ...

- a) Garis lurus AC
- b) Garis lengkung AB
- c) Garis lurus AB
- d) Garis lurus OD

9. Perhatikan gambar tersebut !




Pernyataan berikut yang benar adalah ...

- a) Daerah p merupakan tembereng
- b) Daerah q merupakan tembereng
- c) Garis AC merupakan busur
- d) Garis lengkung BD merupakan juring

10. Gambar berikut ini yang menunjukkan juring adalah

a)



b)



c)



d)

