



**PROBLEMAS**




1. Ana y Pedro trabajan en un laboratorio. Ana ha utilizado 104 probetas para realizar su experimento y Pedro ha usado 76 probetas menos que Ana. ¿Cuántas probetas ha usado Pedro?

<b>DATOS:</b> <div style="border: 1px solid black; height: 40px; margin-bottom: 5px;"></div> <div style="border: 1px solid black; height: 40px;"></div>	<b>OPERACIÓN:</b> <div style="display: flex; align-items: center; justify-content: center; margin: 10px 0;"> <div style="border: 1px solid black; border-radius: 50%; width: 30px; height: 30px; margin-right: 10px;"></div> <table border="1" style="border-collapse: collapse; text-align: center;"> <tr style="background-color: #4a86e8; color: white;"> <th style="padding: 5px;">C</th> <th style="padding: 5px;">D</th> <th style="padding: 5px;">U</th> </tr> <tr><td style="height: 25px;"></td><td style="height: 25px;"></td><td style="height: 25px;"></td></tr> <tr><td style="height: 25px;"></td><td style="height: 25px;"></td><td style="height: 25px;"></td></tr> <tr><td style="height: 25px;"></td><td style="height: 25px;"></td><td style="height: 25px;"></td></tr> </table> </div>	C	D	U										<b>SOLUCIÓN:</b> <div style="border: 1px solid black; height: 40px; margin-bottom: 10px;"></div> <div style="text-align: center;">  </div>
C	D	U												

2. Pedro tiene 24 años y su padre, que también es científico, tiene el doble de edad que su hijo. ¿Cuántos años tiene el padre de Pedro?

<b>DATOS:</b> <div style="border: 1px solid black; height: 40px; margin-bottom: 5px;"></div> <div style="border: 1px solid black; height: 40px;"></div>	<b>OPERACIÓN:</b> <div style="display: flex; align-items: center; justify-content: center; margin: 10px 0;"> <div style="border: 1px solid black; border-radius: 50%; width: 30px; height: 30px; margin-right: 10px;"></div> <table border="1" style="border-collapse: collapse; text-align: center;"> <tr style="background-color: #4a86e8; color: white;"> <th style="padding: 5px;">D</th> <th style="padding: 5px;">U</th> </tr> <tr><td style="height: 25px;"></td><td style="height: 25px;"></td></tr> <tr><td style="height: 25px;"></td><td style="height: 25px;"></td></tr> <tr><td style="height: 25px;"></td><td style="height: 25px;"></td></tr> </table> </div>	D	U							<b>SOLUCIÓN:</b> <div style="border: 1px solid black; height: 40px; margin-bottom: 10px;"></div> <div style="text-align: center;">  </div>
D	U									

3. Ana ha hecho 10 inventos y Pedro la mitad. ¿Cuántos inventos ha hecho Pedro?

<b>DATOS:</b> <div style="border: 1px solid black; height: 40px; margin-bottom: 5px;"></div> <div style="border: 1px solid black; height: 40px;"></div>	<div style="margin-bottom: 10px;"> <b>OPERACIÓN:</b> Arrastra y reparte estos 10 inventos en 2 partes iguales entre Ana y Pedro.         </div> <div style="display: flex; align-items: center; margin-bottom: 10px;"> <div style="text-align: center; margin-right: 10px;">    </div> <div style="flex-grow: 1;"> <div style="border: 1px solid black; height: 40px; margin-bottom: 10px;"></div> <div style="border: 1px solid black; height: 40px;"></div> </div> </div> <div style="display: flex; justify-content: space-between; align-items: flex-end;"> <div style="width: 40%;"> <b>SOLUCIÓN:</b> <div style="border: 1px solid black; width: 100%; height: 25px;"></div> </div> <div style="width: 55%; text-align: center;">  </div> </div>
--	---