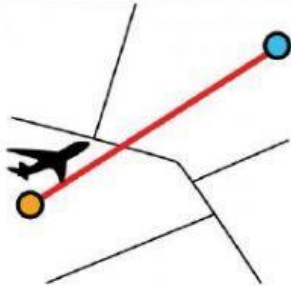





Completa las frases

**La unidad principal de longitud es el metro.
Su símbolo es m.**


**Un kilómetro son 1.000 metros.
El símbolo del kilómetro es km.
1 km = 1.000 m**

**¿Cuál es la unidad de medida más adecuada
en cada caso?**

| | | | |
|--|--|---|--|
|  |  |  |  |
| | | | |

De kilómetros a metros y de metros a kilómetros

**Fíjate cuantos ceros tienes que quitar o poner
y recuerda poner el punto de millar.**

| | | |
|-----------|---|---------------|
| 1 km = m |  | 1.000 m = km |
| 4 km = m | | 3.000 m = km |
| 7 km = m | | 4.000 m = km |
| 22 km = m | | 5.000 m = km |
| 30 km = m | | 22.000 m = km |
| 10 km = m | | 12.000 m = km |