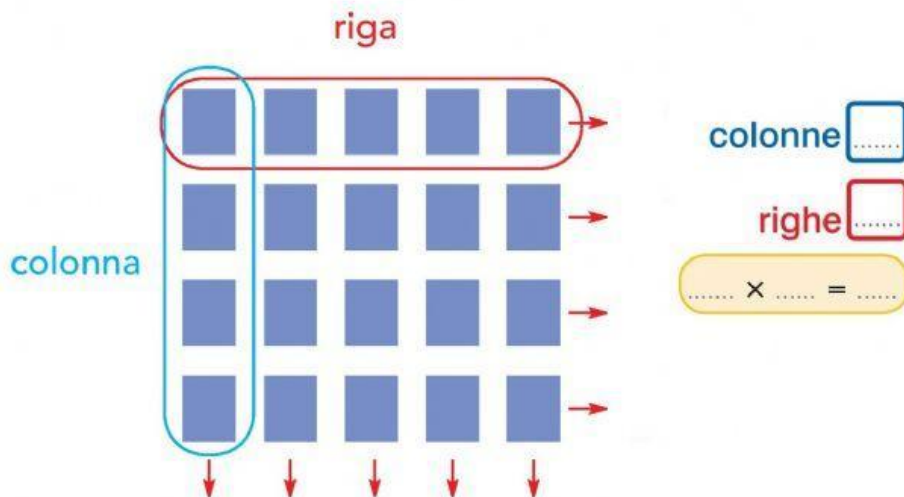



GLI SCHIERAMENTI

- 1 Sara ha sistemato le sue figurine in righe e colonne. Osserva e completa.



Lo **schieramento** è composto da elementi sistemati in righe e in colonne. Per calcolare il numero totale degli elementi si utilizza la moltiplicazione.


- 2 Per ogni **schieramento** scrivi due moltiplicazioni.



colonne

righe

..... x =



colonne

righe

..... x =



colonne

righe

..... x =