


20 cm

ÁREA DE POLÍGONOS

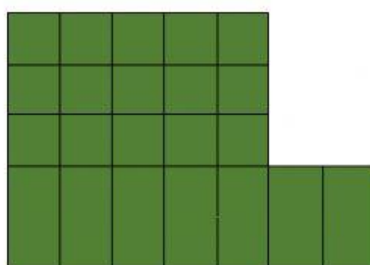
5 cm

1. Calcular el área de las figuras:

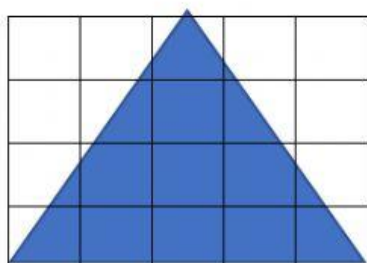
 = u^2



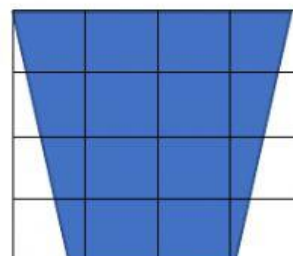
 u^2



 u^2

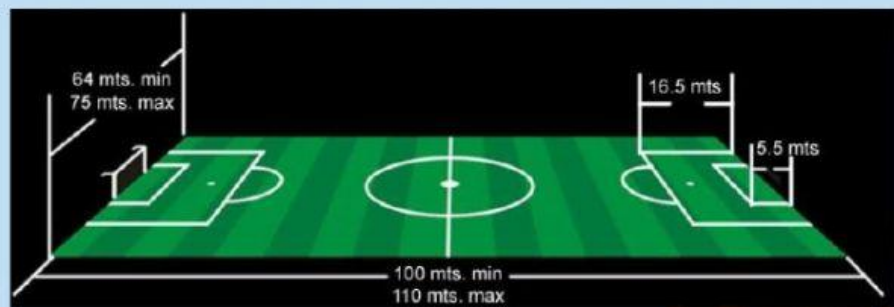


 u^2



 u^2

2.-Una cancha de futbol mide de ancho 65 metros y de largo 100 metros. ¿Cuál es el área de la cancha de futbol ?



fppt.com

Y su perímetro es:



El área del recuadro del título es:



Y su perímetro es:

