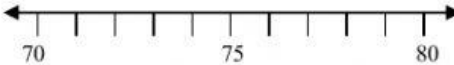
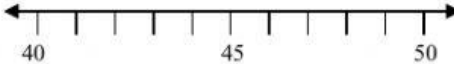


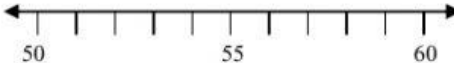


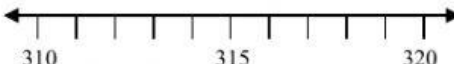
### แบบฝึกหัด

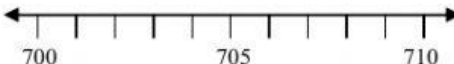
จงหาค่าประมาณใกล้เคียงจำนวน เต็มสิบ ของจำนวนต่อไปนี้

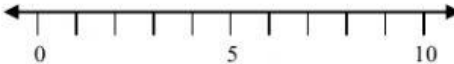
1) 72  Answer ๗๒ ≈ .....

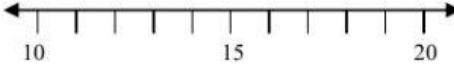
2) 45  Answer ๔๕ ≈ .....

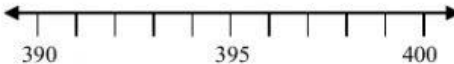
3) 56  Answer ๕๖ ≈ .....


4) 317  Answer ๓๑๗ ≈ .....

5) 703  Answer ๗๐๓ ≈ .....


6) 4  Answer ๔ ≈ .....

7) 12  Answer ๑๒ ≈ .....

8) 399  Answer ๓๙๙ ≈ .....

9) 1,248  Answer ๑,๒๔๘ ≈ .....

10) 4,421  Answer ๔,๔๒๑ ≈ .....



### ฝึกมาก เก่งมาก

แบบฝึกหัด ต้องง่าย เพื่อให้เด็กมีขวัญและกำลังใจ อยากเรียนคณิตศาสตร์