



លំហាត់អនុវត្តន៍

1. ចូរបំពេញចំនួនខាងក្រោយអោយបានត្រឹមត្រូវ។

$2 + \square = 5$	$0 + \square = 7$
$3 + 2 = \square$	$\square + 2 = 10$
$5 + \square = 9$	$6 + 4 = \square$
$\square + 1 = 10$	$2 + \square = 8$




II. ចូរទាញភ្ជាប់វិធីបូកខាងក្រោយអោយបានត្រឹមត្រូវ។

$9 + 8$

$8 + 7$

$11 + 9$

$7 + 7$



III. ចូរបំពេញផលបូកខាងក្រោយអោយបានត្រឹមត្រូវ។

$13 - 4$

$20 - 14$

$19 - 11$

$14 - 7$

 = 6

 = 7

 = 8

 = 9