



ESCOLA : \_\_\_\_\_

QUEIMADAS, \_\_\_\_ / \_\_\_\_ / \_\_\_\_

ALUNO(A) \_\_\_\_\_

Exercício de Matemática

**Leia com atenção**

**Faça o cálculo e Marque a alternativa correta:**

1. Em uma estante com duas prateleiras, há 45 livros de português na primeira prateleira e 38 livros de matemática na segunda prateleira. Quantos livros há nessa estante?

- A) 82
- B) 105
- C) 83
- D) 17

2. Marina decidiu colecionar figurinhas. Ela já tem 48 figurinhas e ganhou 3 pacotes com 15 figurinhas cada um. Quantas figurinhas ela tem agora?

- A) 93
- B) 83
- C) 17
- D) 26

3. Júlia ganhou 4 caixas de lápis de pintar. Cada caixa contém 12 lápis, quantos lápis ela ganhou ao todo?

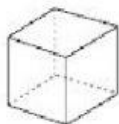
- A) 16
- B) 48
- C) 36
- D) 55

4. Observe a sequência dos números a seguir, descubra a lógica que eles estão seguindo e marque a alternativa que contém o número que está faltando:

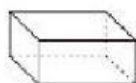
- A) 15
- B) 19
- C) 20
- D) 17

1, 5, 9, 13, \_\_\_\_ 21

**Escreva o nome de cada sólido geométrico:**



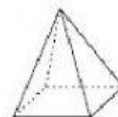
\_\_\_\_\_



\_\_\_\_\_



\_\_\_\_\_



\_\_\_\_\_



\_\_\_\_\_



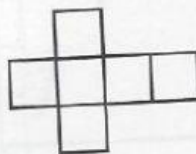

\_\_\_\_\_

*Professora: Isabel Cristina*


4º ano

Relacione as figuras com os sólidos identificados-os pelo seu nome

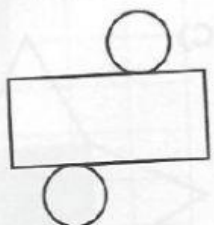

a)



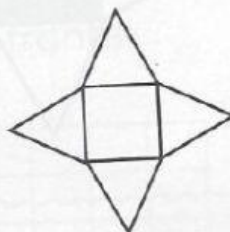
b)





c)



d)



e)



Professora: Isabel Cristina

4º ano