



# LKPD

Guru : YAYU IRIANTI, S.Pd.  
Sekolah : UPTD SDN 3 Balokang  
Kelas : V (Lima)  
Materi : Tema 1 Subtema 1  
Pembelajaran 2


**Nama Siswa :**


**Kelas :**

**No. Absen :**

**Sebelum mengerjakan jangan lupa berdoa . Selesaikan LKPD ini dengan jujur & bertanggungjawab.**

Untuk dapat menceritakan apa yang terkandung di dalam gambar diperlukan ketelitian dalam mengamati gambar. Selain itu juga diperlukan kemampuan dalam berbahasa, baik lisan maupun tulis. Coba ceritakan rangkaian gambar ilustrasi berikut sesuai pemahamanmu.





Tahukah kamu bahwa kelinci termasuk binatang mamalia? Binatang mamalia tergolong hewan vertebrata, yaitu hewan yang bertulang belakang. Nah, di sekitarmu pasti banyak sekali hewan vertebrata lain selain kelinci. Bersama temanmu, amati dan identifikasi organ gerak hewan-hewan tersebut.

**Tuliskan hasilnya pada tabel berikut.**


| No. | Nama Hewan | Nama Organ Gerak | Fungsinya |
|-----|------------|------------------|-----------|
| 1.  | Ikan       |                  |           |
| 2.  | Katak      |                  |           |

|           |  |  |
|-----------|--|--|
| 3. Burung |  |  |
| 4. Ular   |  |  |
| 5. Kadal  |  |  |

### Ayo Renungkan



1. Buatlah sebuah karangan singkat dengan ide pokok berikut ini.
  - Paragraf 1: Aku mempunyai hewan kesayangan.
  - Paragraf 2: Aku bermain dengan hewan kesayanganku setiap hari.
  - Paragraf 3: Aku rajin memberinya makan.
  - Paragraf 4: Aku rajin membersihkan tubuh dan kandangnya.



2. Perbedaan organ gerak pada hewan vertebrata merupakan karunia dan bentuk keadilan Tuhan.

Amatilah salah satu binatang yang ada di sekitarmu.

Catatlah gerakan-gerakan yang dilakukan hewan tersebut dan organ gerak yang digunakan.

**Tuliskan hasilnya pada kolom berikut.**

