



## ATIVIDADE COMPLEMENTAR

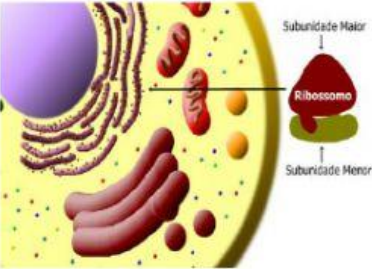
**QUESTÃO 1:** Marque a alternativa correta: O Reticulo endoplasmático é formado por?

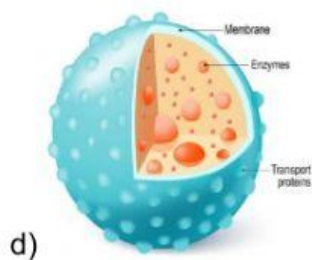
- ( ) Bolhas e espaços membranosos
- ( ) Uma rede membranosa de bolsas achatadas e de canais tubulares interligados
- ( ) Sacos alongados

**QUESTÃO 2:** Relacione cada imagem de acordo com as funções

a)  .....  Participa da digestão celular

b)  .....  Possui duas subunidades

c)  .....  Guarda as proteínas que são usadas pela célula ou exportadas



Síntese de alguns hormônios,  
síntese de fosfolípidios, processo  
de contração muscular

**QUESTÃO 3:** Qual a organela responsável pela fotossíntese?

Ribossomos

Citosol

Cloroplastos

Membrana plasmática

**QUESTÃO 4:** Nas células animais encontramos \_\_\_\_\_  
PLASMÁTICA, e nas células vegetais encontramos  
Parede \_\_\_\_\_

**QUESTÃO 5:** As substâncias entram e saem das células através  
da \_\_\_\_\_ SELETIVA.