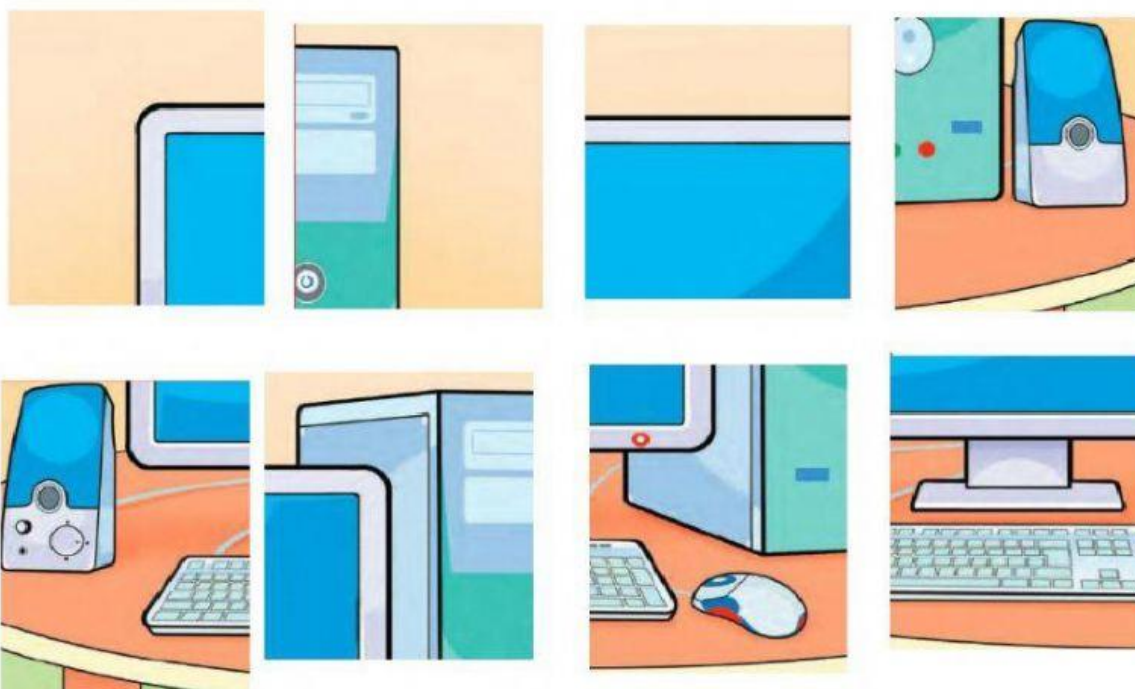





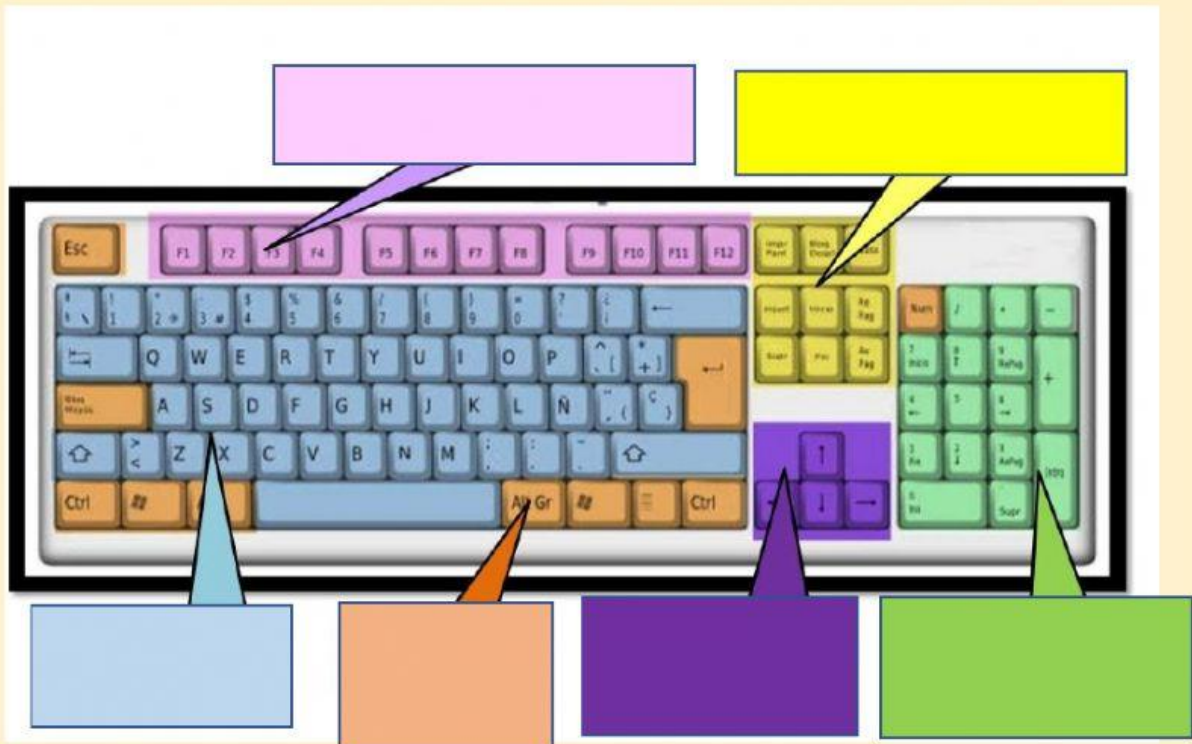
1. Arme las piezas del rompecabezas adjunto; de las partes principales del computador.



Elaborado por: Ing. Marcela Stefanía Aroca Vera



2. Arrastre donde corresponde el nombre de las partes del teclado, de acuerdo al color que muestra.



TECLAS ALFANUMÉRICAS

TECLAS NUMÉRICAS



TECLAS DEL SISTEMA

TECLAS DE EDICIÓN



TECLAS O FLECHAS DE DIRECCIÓN

TECLAS DE FUNCIÓN

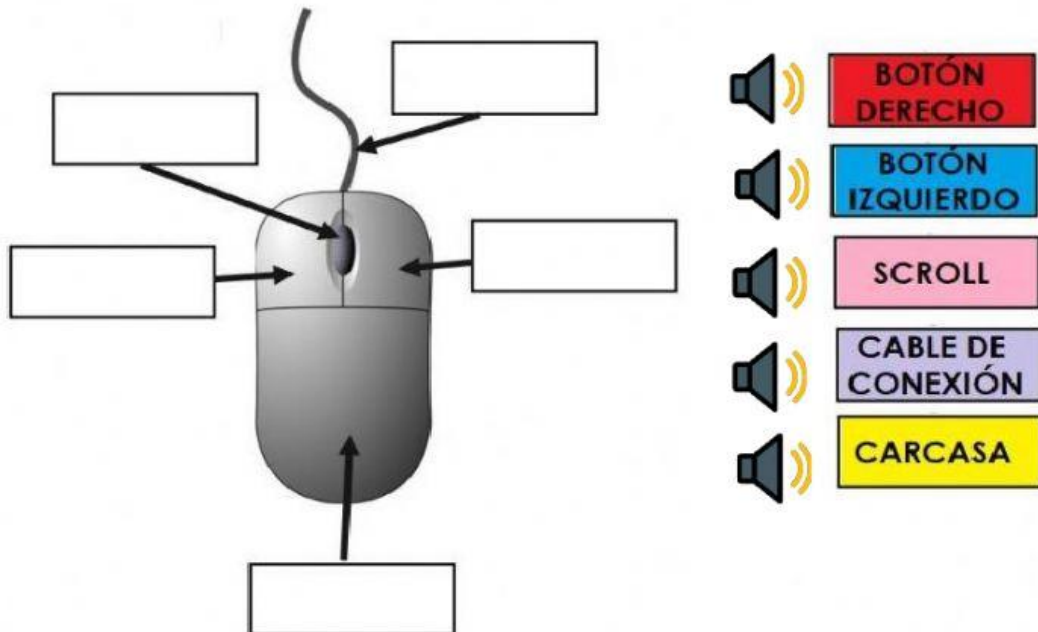


Elaborado por: Ing. Marcela Stefanía Aroca Vera



El Mouse

3 Arrastra el nombre al lugar que le corresponde:



4 Une cada dibujo según el nombre de mouse que representa:



Mouse
Inhálambrico



Touchpad
Mouse Portátiles



Mouse
Alámbrico


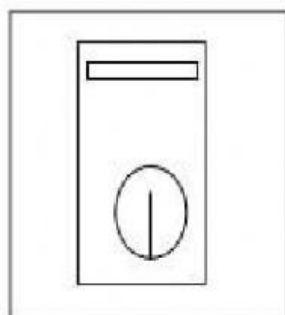
Elaborado por: Ing. Marcela Stefanía Aroca Vera



5 ENCENDIDO DEL COMPUTADOR.



Observa las imágenes y ordena la secuencia del encendido del computador, ubicando el número correspondiente en la imagen.



1

2

3

Elaborado por: Ing. Marcela Stefanía Aroca Vera

EVALUACIÓN SEGUNDO PARCIAL: ACADEMIA NAVAL JAMBELÍ



6. Identifica cuales de los dispositivos son de entrada, y cuáles son los dispositivos de salida. Arrastre cada imagen donde corresponde.



MOUSE (RATÓN)



MICRÓFONO



PARLANTES



CÁMARA WEB



IMPRESORA



TECLADO



PANTALLA



AUDIFONOS

Elaborado por: Ing. Marcela Stefanía Aroca Vera



7. Una con línea según corresponda cada dispositivo de almacenamiento que se muestra en las imágenes.

<div>MEMORIA USB</div> 	<div>CD</div> 	<div>DISCO DURO</div> 	<div>TARJETAS SD</div> 
--	---	---	--

Elaborado por: Ing. Marcela Stefanía Aroca Vera