


**EVALUACIÓN PRIMER PARCIAL SEGUNDO GRADO A**

Nombre: \_\_\_\_\_ Fecha: \_\_\_\_\_


Segundo grado A

Área: Lengua y Literatura.

1.- ESCRIBE LA LETRA CON LA QUE INICIAN LOS DIBUJOS.



2.- SELECCIONA LA PALABRA QUE CORRESPONDE A LA IMAGEN.



**mina**

**mima**

**miau**



**mioma**

**momia**

**mono**

3.- LEE LA ORACIÓN Y ÚNELA A LA IMAGEN CORRESPONDIENTE.

**Una mamá**

**Un mono**

**Un enano**

**Una momia**



4.- MARCA LA CASILLA QUE CORRESPONDE AL SONIDO /n/ DE LA PALABRA QUE NOMBRE EL DIBUJO



--	--	--	--	--



--	--	--	--



--	--	--	--	--




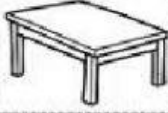






--	--	--	--

**EVALUACIÓN PRIMER PARCIAL SEGUNDO GRADO A**

5-UBICA CADA FIGURA SEGÚN EL SONIDO INICIAL DE SU NOMBRE.

**Mm**

**Nn**

Nombre: \_\_\_\_\_ Fecha: \_\_\_\_\_

Segundo grado A

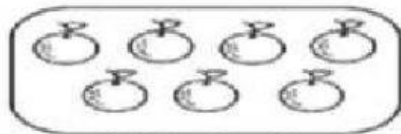
Área: Matemáticas.

1. COMPLETA LOS NUMEROS QUE FALTAN A LA SERIE NUMERICA.


1		3		5		7		9	10
	12		14		16		18		20
21		23	24	25		27		29	

## EVALUACIÓN PRIMER PARCIAL SEGUNDO GRADO A


2.- CUENTA LOS ELEMENTOS Y MARCA LA CASILLA SI UN NUMERO PAR O IMPAR.




☐ Par ☐ Impar



☐ Par ☐ Impar





☐ Par ☐ Impar



☐ Par ☐ Impar

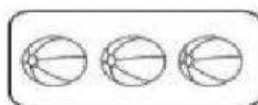
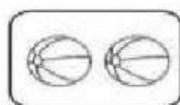
3.-RELACIONA LAS CANTIDADES CON LA REPRESENTACIÓN DEL ÁBACO.





4.- COMPARA LOS NUMEROS Y COLOCA EL COCODRILO CORRECTO MAYOR O MENOR QUE .

12		7
8		8

5.- REALIZA LAS SUMAS



$$2 + 3 = \square$$



$$4 + 4 = \square$$