

UNIDAD EDUCATIVA
"GONZALO ESCOBAR BARCIA"
INSTRUMENTO DE EVALUACION
MATEMATICAS



Docente: Ing. Wendy Saltos Chancay

Alumno:

1. Escoja la respuesta correcta de la siguiente suma.

$$\begin{array}{r} 6 \ 8 \ 9 \ 4 \\ + \ 5 \ 8 \ 5 \ 1 \\ \hline \end{array}$$

- a) 8654
- b) 12745
- c) 12756

2. Arrastra la respuesta correcta a la siguiente Resta.

$$\begin{array}{r} 9 \ 8 \ 5 \ 6 \\ - \ 5 \ 7 \ 6 \ 4 \\ \hline \end{array}$$

- a) 57632
- b) 7854
- c) 4092

3. Ordene los siguientes números de Menor a Mayor:

450, 673, 120, 1110, 429, 492, 287, 1681, 872

--	--	--	--	--	--	--	--	--

4. Una con línea lo correcto

767	Novecientos cincuenta y dos
1418	Dos mil novecientos cuarenta y nueve
952	Setecientos sesenta y siete
2949	Mil cuatrocientos dieciocho

5. Escriba el antecesor y sucesor de cada número

<input type="text"/>	←	567	→	<input type="text"/>
<input type="text"/>	←	936	→	<input type="text"/>
<input type="text"/>	←	201	→	<input type="text"/>
<input type="text"/>	←	503	→	<input type="text"/>

6. Realice la siguiente multiplicación por dos cifras.

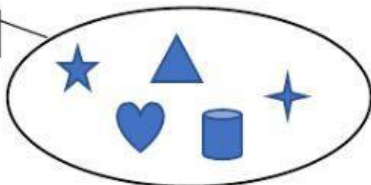
$$\begin{array}{r} 53561 \\ \times 45 \\ \hline \end{array}$$

7. Verdadero o falso según el signo.

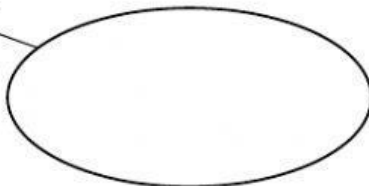
15	>	17	<input type="radio"/>
30	<	21	<input type="radio"/>
12	>	34	<input type="radio"/>
13	<	17	<input type="radio"/>

8. Arrastre y ubique la respuesta en el conjunto correcto


A



E



M

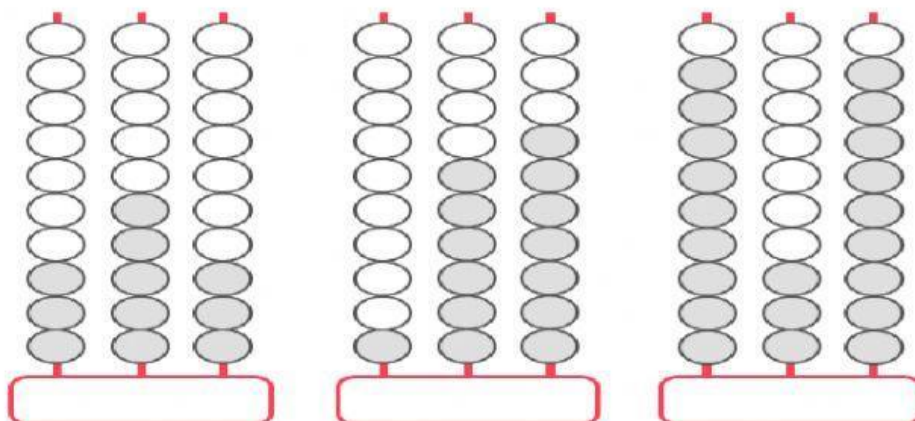


Conjunto unitario

Conjunto vacío

Conjunto lleno

9. Ubica la respuesta en su lugar correspondiente según en el Ábaco



1 6 7

3 5 3

9 3 9

10. Escriba la respuesta correcta de las siguientes tablas de multiplicar.

$$4 \times 3 = \boxed{}$$

$$3 \times 6 = \boxed{}$$

$$5 \times 8 = \boxed{}$$

$$2 \times 9 = \boxed{}$$

$$5 \times 10 = \boxed{}$$

$$7 \times 7 = \boxed{}$$

$$6 \times 6 = \boxed{}$$