

COMPROBAMOS NUESTROS
SABERES EN CIENCIA Y
TECNOLOGIA

IV UNIDAD

Nombre y Apellidos:

Grado: 1º

I.-INSTRUCCIÓN: Une cada palabra con su respectivo dibujo:



tomate


lechuga

nabo

apio

zanahoria

rabanitos



II.-INSTRUCCIÓN: Observa las figuras y une con una flecha (→) cada figura con el nombre de la enfermedad que representa.



TUBERCULOS



SARAMPION




GRIPE

II.-INSTRUCCIÓN: Escribe dentro del circulo SI los seres vivos y NO los sin vida.

 <input type="text"/>	 <input type="text"/>	 <input type="text"/>
 <input type="text"/>	 <input type="text"/>	 <input type="text"/>



IV.-INSTRUCCIÓN: Arrastra el nombre de cada parte de la planta.



HOJA

RAIZ

TALLO

FRUTO


FLOR




V.-INSTRUCCIÓN: Escribe V o F según corresponda:

- a) La planta necesita piedras..... ()
- b) La planta necesita abono..... ()
- c) La planta se alimenta del aire..... ()
- d) La planta necesita de la luz para fabricar su alimento..... ()
- e) Las plantas nos dan alimento..... ()

V.-INSTRUCCIÓN: Une con una línea el recurso vegetal que emplea cada trabajador.



V.-INSTRUCCIÓN: Une según corresponde:



Café

COMESTIBLE

Arroz



INDUSTRIAL

Girasol



MEDICINAL

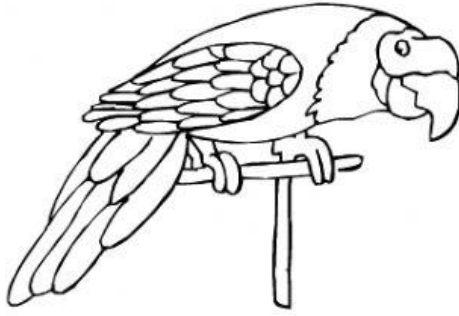
Anís





DECORATIVA





VI.-INSTRUCCIÓN: Une cada animal con el ambiente en que viven.



Aire



Agua



Tierra

