

## MATEMÁTICA



TOQUE NO ÁUDIO PARA VOCÊ OUVIR.

OBSERVE A CENA. DEPOIS RESPONDA AS PERGUNTAS.

HABILIDADES:

EF02MA04,  
EF02MA05,  
EF02MA06,  
EF02MA10.



@elaineprafa



OS ALUNOS DA PROFESSORA ELAINE ESTÃO OBSERVANDO O NÚMERO DA CASA E, ESTÃO PENSANDO... VAMOS AJUDAR OS AMIGOS?




ESCREVA POR EXTENSO O NÚMERO 425




ESCREVA QUE NÚMERO VEM **DEPOIS** DO 425:




UM DELES MAIS CURIOSO, QUIS SABER QUAL É O NÚMERO QUE VEM **ANTES** DO NÚMERO 425?

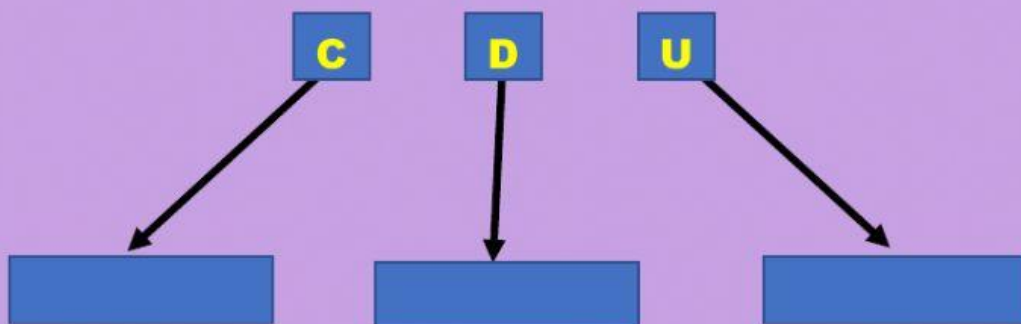
 OBSERVARAM E DESCOBRIRAM QUE, O NÚMERO 4 ESTÁ OCUPANDO A “CASA” DA... MARQUE UM **X** NA “CASA” DE ORDEM CORRETA. **UNIDADE**, **DEZENA** OU **CENTENA**.


**C** **D** **U**

 E, AINDA VAMOS APROVEITAR E ASSINALAR QUAL A “CASA” OCUPA O NÚMERO 2, ANALISANDO O NÚMERO 425. MARQUE UM **X**.

**C** **D** **U**

 ESCREVA NO QUADRO ABAIXO O QUE SIGNIFICA CADA ABREVIACÃO.



 AGORA VAMOS COMPLETAR OS QUADROS ABAIXO COM OS NÚMEROS SEGUINTE:

400 -  - 402 -  - 404 -  - 406 -  - 408 -  
409 -  - 411 -  - 413 -  - 415 -  - 417 -  
418 -  - 420

@elaineapnefa