



PRÁCTICA DE MATEMÁTICA

LEE CADA SITUACION PROBLEMÁTICA Y RESUELVE

1. Danielle tiene S/29 y quiere comprar la siguiente Lliclla.



¿Cuánto dinero le falta a Danielle para comprar la Lliclla?

- ☐ a 29
- ☐ b 25
- ☐ c 24

- 2.- Valentina guarda 85 galletas en un frasco. 39 de estas galletas tienen forma de corazón y las demás galletas tienen forma de estrellas

¿Cuántas galletas de estrellas son?

- ☐ a 46 galletas
- ☐ b 42 galletas
- ☐ c 64 galletas



3.- Santiago tiene 76 manzanas. ¿Cuántas bandejas con 10 manzanas como la siguiente puede armar Santiago con las 76 manzanas?

- ☐ a 6 bandejas
- ☐ b 7 bandejas
- ☐ c 9 bandejas




4.- En el aula de tercero "A", hay 23 niños y 11 niñas. ¿Cuántos niños más que niñas hay en Esta aula?

- ☐ a 11 niños
- ☐ b 15 niños
- ☐ c 12 niños

5.- En un juego, se usan claves para escribir los números. Observa.

¿Qué número se debe escribir en el recuadro para completar la lista?



6.- Adrián tiene esta cantidad de dinero.



Adrián compra una pelota de S/22. Al pagar, él dice que recibirá S/3 de vuelto.  
Si no hubo descuento en el precio ni error en el vuelto, ¿es posible esto? SI, NO  
Explica tu respuesta



7.- Rachel colecciona estampitas para su álbum. Ella las cuenta siguiendo una secuencia. Observa.

37, 40, 43, 46, 49, ...


¿Qué debes hacer para encontrar el número que sigue?

a Sumar 2 al 49.

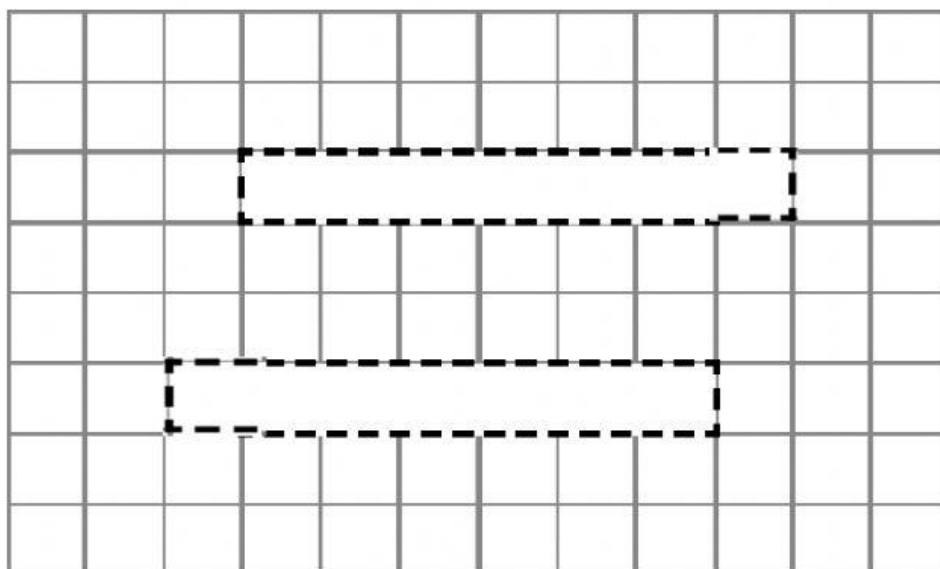
b Sumar 5 al 49

c Sumar 3 al 49

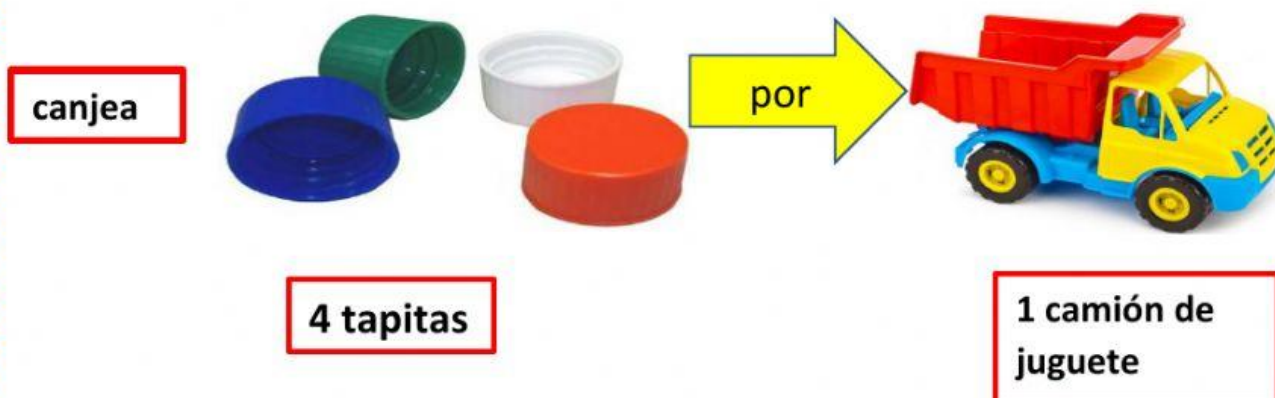
8.-Un juego tiene varias fichas de tres tamaños diferentes. Observa.



Ahora, combina de formas diferentes las fichas del juego y forma otras dos figuras en los espacios delineados.



9.-En el kiosco, se realiza el siguiente canje:



Jhossymar quiere canjear 5 camiones, ¿cuántas tapitas necesitará?

- ☐ a 15 tapitas
- ☐ b 20 tapitas
- ☐ c 18 tapitas

10. María encuestó a sus compañeros respecto a sus lugares preferidos para pasear. Con los datos, construyó el siguiente pictograma. Según el gráfico, ¿cuántos estudiantes prefieren ir al circo?

- ☐ a 12 estudiantes
- ☐ b 18 estudiantes
- ☐ c 16 estudiantes



Lugares preferidos para pasear	
zoológico	▲ ▲ ▲ ▲ ▲ ▲
parque	▲ ▲
cine	▲ ▲ ▲ ▲
circo	▲ ▲ ▲ ▲ ▲ ▲ ▲ ▲ ▲
museo	▲ ▲ ▲ ▲ ▲ ▲
Cada ▲ =	2 votos