




Amor, fe y estudio

COLEGIO PIEDECUESTA INFANTIL

Resolución 02208 del 7 de Marzo de 2007

DANE
368547001866

Clasificación de Líneas Verticales y Horizontales

► Imagina  sobre el punto A. ¿Qué observas en la parte superior del lápiz?

► Coloca el  sobre el punto B.

► ¿Qué observas a la derecha?

► ¿Qué observas a la izquierda?




(horizontal)

(vertical)



Actividades

1 Con la ayuda del lápiz, identifica en qué posición se encuentra la recta AB.



Resolución:

Colocamos el lápiz sobre la línea AB y la posición del lápiz es horizontal.

Rpta.: La posición de la recta AB es horizontal.

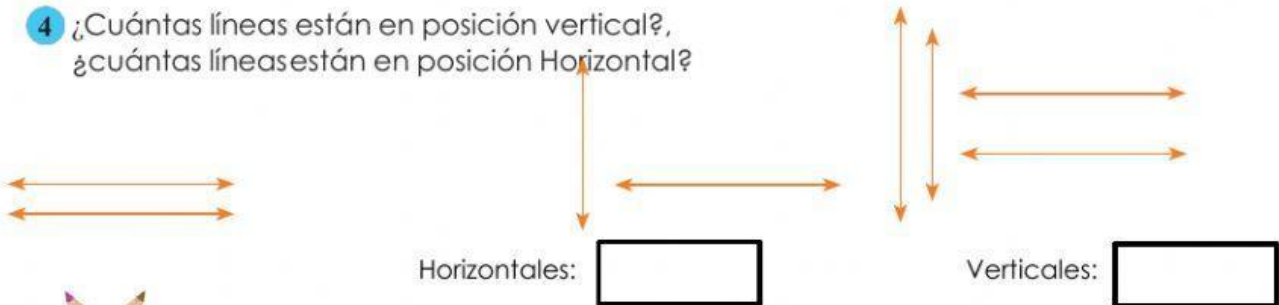
Con la ayuda del lápiz, identifica:



2 ¿En qué posición se encuentra la recta CD?


3 ¿En qué posición se encuentra la recta AB?

4 ¿Cuántas líneas están en posición vertical?,
¿cuántas líneas están en posición Horizontal?



Exigimos más

Responde las preguntas 5, 6 y 7.




¿Qué posición tiene la recta AB?

¿En qué posición está la recta FG?

La posición de la línea JK es:



Demuestro mis habilidades



La línea AB está en posición



¿Cuántas líneas en posición vertical hay?

¿Cuántas líneas hay en total?