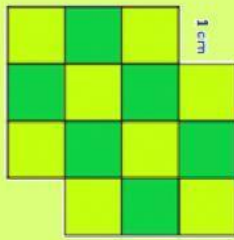
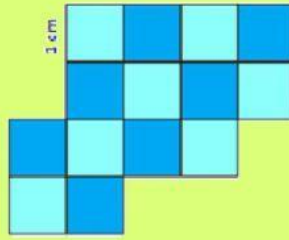


ÁREA DE POLÍGONOS


1. Calcula el área de las figuras.



A = cm^2

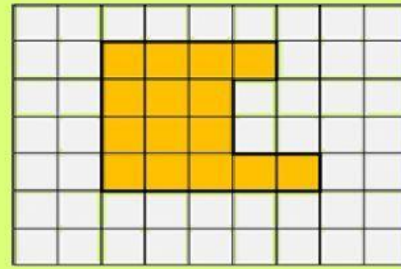
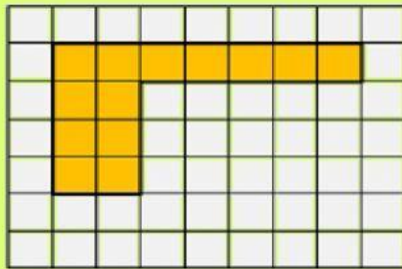


A = cm^2



A = cm^2

2. Selecciona la figura que tenga un área menor.



3. En la siguiente serie de figuras podrás encontrar tres pares de figuras que miden la misma cantidad de cm en su perímetro que de cm^2 en su área; localízalas y únelas.

