


Genios en acción

# PENSAMIENTO MATEMÁTICO



Primero

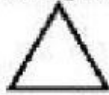
1

Observa el valor que tiene asignado cada imagen y resuelve las sumas.

cuadrado

 $= 9$ 

triángulo

 $= 12$ 

círculo

 $= 14$ 

rombo

 $= 10$ 

estrella

 $= 7$ 

$$\star + \bigcirc = \boxed{\phantom{00}}$$

$$\triangle + \square = \boxed{\phantom{00}}$$

$$\square + \square + \star = \boxed{\phantom{00}}$$

$$\diamond + \triangle + \bigcirc = \boxed{\phantom{00}}$$

$$\diamond + \bigcirc + \triangle + \square = \boxed{\phantom{00}}$$

$$\square + \star + \bigcirc + \star = \boxed{\phantom{00}}$$

$$\bigcirc + \star + \triangle + \triangle + \diamond = \boxed{\phantom{00}}$$

$$\triangle + \square + \bigcirc + \diamond + \star = \boxed{\phantom{00}}$$






Piensa y completa

Escribe cuatro números

- Mayores que 17 ►
- Mayores que 30 ►
- Mayores que 62 ►

Martha y Javier están jugando a la tienda. Observa los precios y ordénalos de mayor a menor




En esta tienda están de rebaja, a cada precio le **rebajan** 5 pesos. Calcula y completa



## EL RECOLECTOR

El recolector de manzanas recogió en varios puntos, suma las manzanas que recogió en cada espacio.





4

El mes de agosto tiene 31 días, tal como se ve en la siguiente ilustración.

 <b>Agosto 2021</b>						
Domingo	Lunes	Martes	Miércoles	Jueves	Viernes	Sábado
1	2	3	4	5	6	7 <small>Batalla de Boyacá</small>
8	9	10	11	12	13	14
15	16 <small>Asunción de la Virgen</small>	17	18	19	20	21
22	23	24	25	26	27	28
29	30	31				

©Michel Zbinden / Calendario Colombia

Los días hábiles del mes están entre lunes y viernes.  
¿Cuántos días hábiles tiene este mes?

23

21

22

El 16 de agosto aparece en rojo porque es festivo. ¿Qué día de la semana es?

Martes

Jueves

Lunes

5

# LA LONCHERA DE CARLA

Calcula lo que cuesta la lonchera de Carla cada día.

**Lunes**



**Miércoles**



**viernes**



El día lunes gastó.

\$33

\$37

\$38

El día que más dinero gastó fue

Lunes

Miércoles

Viernes