

TES AKHIR MODUL

Pilihlah salah satu jawaban yang benar!

1. Salah satu cara yang paling tepat dalam mengumpulkan data mengenai sosial media yang paling disukai teman dalam satu kelas Ananda adalah
 - A. observasi
 - B. angket
 - C. kuesioner
 - D. dokumen
2. Salah satu cara yang paling tepat dalam mengumpulkan data mengenai tinggi badan siswa di kelas Ananda adalah
 - A. observasi
 - B. angket
 - C. kuesioner
 - D. Dokumen

Untuk menyelesaikan soal nomor 7-8, perhatikan tabel berikut

| Kelas | Banyak Siswa | |
|---------------|--------------|------------|
| | Laki-laki | Perempuan |
| 1 | 20 | 17 |
| 2 | 19 | 15 |
| 3 | 12 | 18 |
| 4 | 21 | 11 |
| 5 | 15 | 19 |
| 6 | 16 | 20 |
| Jumlah | 84 | 105 |




3. Jumlah siswa terbanyak berada di kelas
 - A. 1
 - B. 2
 - C. 5
 - D. 6
4. Selisih tertinggi siswa perempuan dan laki-laki ada di kelas
 - A. 1
 - B. 2
 - C. 3
 - D. 4

Untuk menyelesaikan soal nomor 5 dan 6, perhatikan diagram batang berikut!



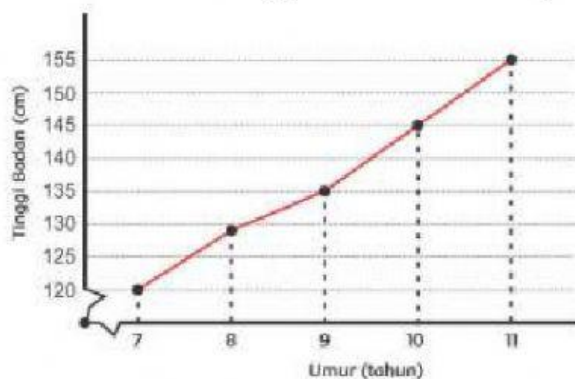
5. Penurunan penjualan tertinggi kendaraan di kota X terjadi pada bulan
 - A. Januari – Februari
 - B. Februari – Maret
 - C. Maret – April
 - D. April – Mei
6. Kenaikan banyaknya kendaraan yang terjual pada bulan Juli - Agustus adalah
 - A. 20 kendaraan
 - B. 15 kendaraan
 - C. 8 kendaraan
 - D. 2 kendaraan

Data peserta jalan sehat dalam rangka Hari Ulang Tahun Republik Indonesia Ke-73 adalah sebagai berikut.

| No. | Nama Sekolah | Peserta Jalan Sehat | |
|--|-----------------|---|---|
| | | Laki-laki | Perempuan |
| 1. | SD Nusantara 01 |  |  |
| 2. | SD Nusantara 02 |  |  |
| 3. | SD Nusantara 03 |  |  |
| 4. | SD Nusantara 04 |  |  |
| 5. | SD Nusantara 05 |  |  |
| Keterangan  mewakili 100 laki-laki;  mewakili 50 laki-laki  mewakili 100 perempuan;  mewakili 50 perempuan | | | |

7. Berdasarkan diagram gambar di atas, banyaknya siswa laki-laki yang mengikuti kegiatan jalan sehat adalah ... anak
- A. 500
 - B. 600
 - C. 550
 - D. 650
8. Berdasarkan diagram gambar di atas, banyaknya siswa yang mengikuti kegiatan jalan sehat adalah ... anak
- A. 1.600
 - B. 1.300
 - C. 1.200
 - D. 1.000

Berikut adalah data tinggi badan dari seorang siswa kelas V



9. Berdasarkan diagram garis di atas, tinggi badan pada umur 7 tahun adalah ... cm
- A. 150
 - B. 135
 - C. 130
 - D. 120
10. Laju peningkatan tinggi badan paling rendah adalah pada selang umur ...
- A. 7 - 8 tahun
 - B. 8 - 9 tahun
 - C. 9 - 10 tahun
 - D. 10 - 11 tahun